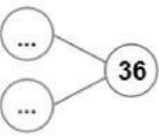


**LATIHAN SOAL SUMATIF AKHIR SEMESTER**  
**MATEMATIKA**  
**KELAS 2**

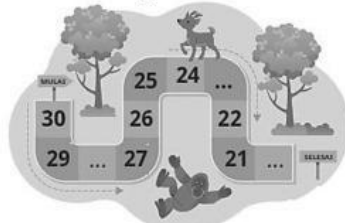
**I. Berilah tanda silang (x) huruf a, b, atau c pada jawaban yang paling benar!**

1.   
Setiap kelompok lidi berisi 10.  
Ada berapa banyak lidi?  
a. 23                      b. 30                      c. 32

2. Bilangan 98 dibaca ....  
a. Sembilan lapan  
b. Sembilan puluh lapan  
c. Sembilan puluh delapan

3.  Bilangan tiga puluh enam bisa dipisahkan menjadi dua bilangan, yaitu ...  
a. 3 dan 6  
b. 30 dan 6  
c. 60 dan 3

4. Perhatikan gambar!



- Bilangan yang tepat untuk mengisi urutan bilangan diatas adalah ....  
a. 28, 25, 10                      c. 30, 25, 22  
b. 28, 23, 20
5. Siti sedang bermain balok.  
Siti ingin menghitung balok yang ia miliki. Siti menyusun balok-balok tersebut seperti pada gambar dibawah ini:



Tabel nilai tempat yang tepat untuk balok Siti adalah ....

a.

Puluhan	Satuan
3	9

b.

Puluhan	Satuan

30	9
----	---

c.

Puluhan	Satuan
9	3

6. Segitiga memiliki jumlah sisi sebanyak...  
a. 5                      b. 4                      c. 3
7. Dadu merupakan contoh benda yang berbentuk..  
a. Bola  
b. Kubus  
c. Balok
8. Dibawah ini adalah contoh bangun ruang dengan permukaan lengkung, yaitu...  
a. Bola, dadu, balon  
b. Balon, bola, botol minum  
c. Kotak pensil, penghapus, tumpeng
9. Halim memiliki satu keranjang pisang, diberikan kepada adiknya 9 pisang. Sekarang, pisang Halim tersisa 19. Berapa banyak pisang Halim sebelum di berikan kepada adik?  
a. 9                      b. 10                      c. 28
10. Aisyah, Hana, dan Siti sedang memetik buah mangga. Aisyah memetik 10 mangga, Hana memetik 9 mangga, dan Siti memetik 8 mangga. Berapa jumlah buah mangga yang dipetik oleh mereka bertiga?  
a. 27                      b. 17                      c. 7

## II. Isilah titik-titik di bawah ini dengan jawaban yang benar!

11. Tuliskan posisi bola pada gambar terhadap boneka atau meja. Gunakan kata di atas, di bawah, kanan, kiri, depan dan belakang.

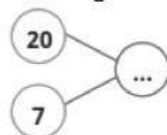


(a)



(b)

12. Pasangan bilangan dua puluh dan tujuh jika ditambahkan bersama menjadi lambang bilangan:





13. Lengkapi urutan bilangan di bawah ini:



14. Berilah contoh benda berbentuk :

- a. Tabung
- b. Kubus
- c. Balok

15. Lengkapi tabel nilai tempat di bawah ini!

Puluhan	Satuan
	
....	....
28	