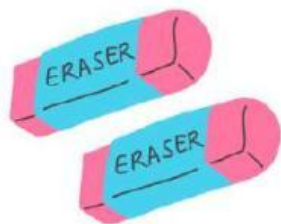


MARI BERHITUNG!

Berapa jumlah benda di bawah ini ?



+



=

.....

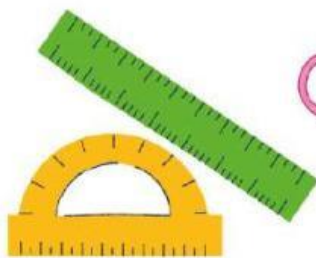


+



=

.....



+



=

.....



+



=

.....



PENJUMLAHAN ANGKA SEDERHANA (1-10)



PETUNJUK :

Hitung hasil penjumlahan dari angka-angka berikut, kemudian pilih jawaban yang benar, lalu tuliskan jawabannya.



+



=



+



=



+



=



+



=



MENJODOHKAN JUMLAH GAMBAR DENGAN ANGKA

Lihat dan hitunglah jumlah alat musik pada kotak sebelah kiri, kemudian jodohkan dengan angka yang tepat!



5



2



3



4



PENJUMLAHAN



PETUNJUK :

Centang jawaban yang sesuai dengan angka di dalam kotak.

20

☐ $15+5=$

☐ $16+4=$

☐ $15+3=$

☐ $16+2=$

18

☐ $13+6=$

☐ $15+3=$

☐ $19+1=$

☐ $12+6=$

15

☐ $13+2=$

☐ $12+2=$

☐ $13+4=$

☐ $7+8=$

16










☐ $15+2=$


☐ $14+2=$

☐ $12+4=$

☐ $11+4=$

Isilah kotak di bawah ini sesuai dengan kode pada tabel!
kemudian jumlahkan hasilnya!

| | | | | | | | | |
|---|---|---|---|---|---|---|---|---|
|  |  |  |  |  |  |  |  |  |
| 1 | 2 | 3 | 4 | 5 | 6 | 7 | 8 | 9 |



$$\square + \square = \square$$



$$\square + \square = \square$$



$$\square + \square = \square$$



$$\square + \square = \square$$

