



COLEGIO MADRE ADELA HERMANAS
MARIANISTAS


FECHA : Marzo 24 de 2021

TALLER EVALUATIVO DE MATEMÁTICAS PRIMER PERIODO
GRADO 1°

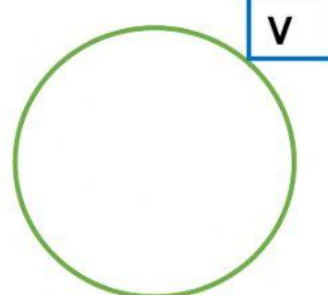
1. Une la clase de conjunto con su nombre.



T



S



V

unitario

vacío

lleno

2. Ubica sobre la línea el signo pertenece o no pertenece según corresponda.



F



___ F



___ F



___ F



___ F



___ F



___ F

3. Arrastra el nombre ordinal con el número que corresponda.

Los Números Ordinales

1º 2º 3º 4º 5º 6º 7º 8º 9º 10º

LIVWORKSHEETS

segundo

primero

octavo

tercero

sexto

quinto

séptimo

cuarto

noveno

décimo

4. Escribe en cada cuadro el número de UNIDADES que hay en las decenas.

9 decenas=

8 decenas=

2 decenas=

6 decenas=

1 decena =

7 decenas=

3 decenas=

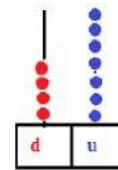
4 decenas=

5 decenas=

5. Ubica en la tabla los números en unidades y decenas según correspondan y une con el ábaco que indique su representación.

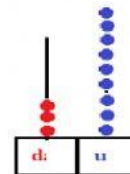
62

D	U



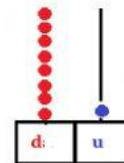
47

D	U



39

D	U



81

D	U

