

# Berhitung 1 Sampai 10

Ayo hitung dan pasangkan dengan bilangan yang tepat!



1

3

4

5

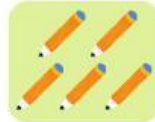
6

7

8

9

10



# Mengurutkan Bilangan

Hitunglah jumlah benda dan urutkan bilangan dengan benar!

Urutan dari terkecil \_\_, \_\_, \_\_.

Urutan dari terbesar \_\_, \_\_, \_\_.

Urutan dari terkecil \_\_, \_\_, \_\_.

Urutan dari terbesar \_\_, \_\_, \_\_.

# SOAL CERITA BERGAMBAR




PETUNJUK :

Baca cerita bergambar lalu hitung dan tulis jawabannya.

1

Dito punya   
dan adiknya punya   
Berapa semua permen?


2

Ada   
di kandang pertama, dan  
di kandang kedua. Ada berapa  
semua ayam?

3

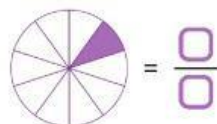
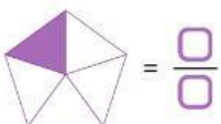
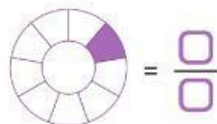
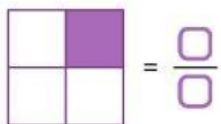
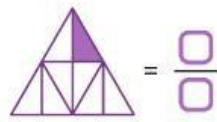
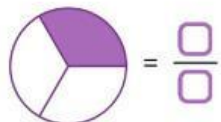
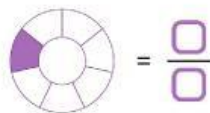
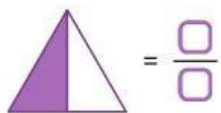
Rani membeli   
lalu diberi 2 lagi oleh temannya.  
Berapa total hadiah?

4

Di taman ada   
lalu datang 1 lagi. Ada  
berapa sekarang?

## Pecahan dengan Pembilang Satu

Tuliskan bentuk pecahan dari gambar yang diarsir dari keseluruhan berikut dengan tepat!



# SOAL CERITA MATEMATIKA



PETUNJUK :

Bacalah setiap soal dengan saksama. Tulis jawaban yang benar di kotak.



Sarah memetik 7 buah apel. Kakaknya memberinya 5 buah apel lagi. Berapa banyak apel yang dimilikinya sekarang?



Ada 20 siswa di dalam bus. 8 siswa turun. Berapa banyak siswa yang tersisa di dalam bus?



Emma memiliki 3 ekor anjing. Ia memberikan 4 camilan untuk setiap anjing. Berapa banyak camilan yang ia berikan secara total?



Liam punya 24 permen. Ia ingin membaginya secara merata ke dalam 4 kantong pesta. Berapa banyak permen yang ada di setiap kantong?



Mia membuat 18 kue. Dia memakan 2 kue dan memberikan 6 kue kepada teman-temannya. Berapa banyak kue yang tersisa?

## Penjumlahan Sederhana

Jumlahkan dan berilah tanda ✓ pada jawaban yang benar

$$3 + 3$$

4   5   6

$$2 + 6$$

7   8   9

$$2 + 3$$

3   4   5

$$3 + 1$$

3   4   5

$$4 + 3$$

6   7   8

$$5 + 4$$

7   8   9