

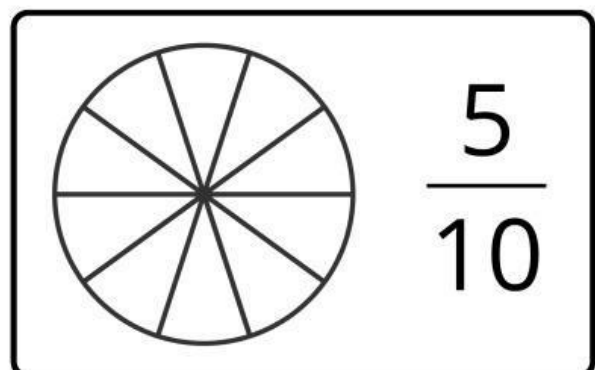
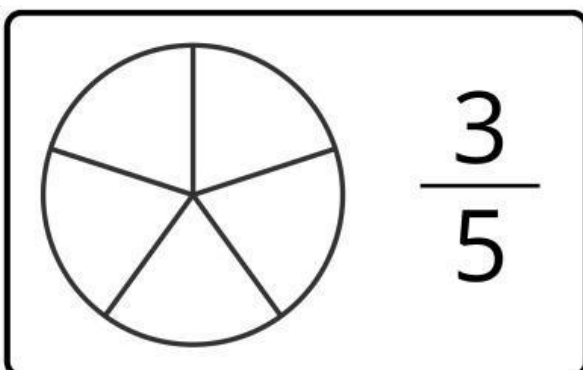
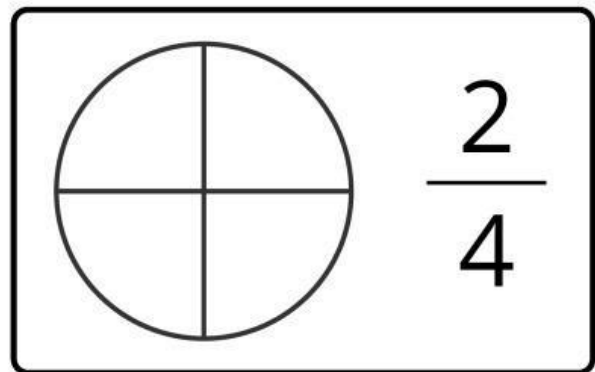
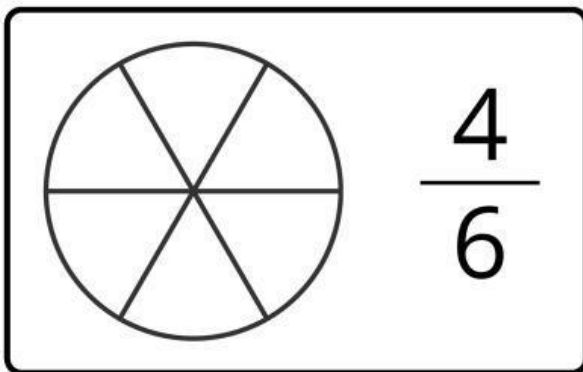
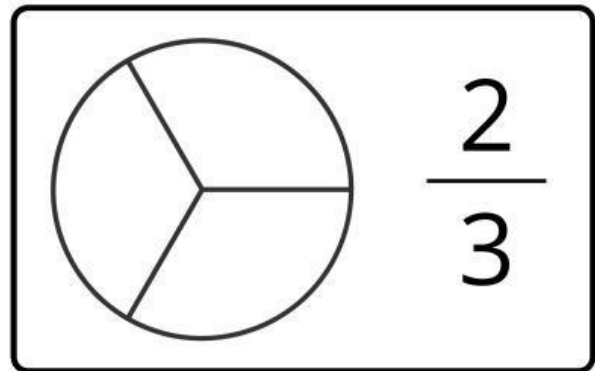
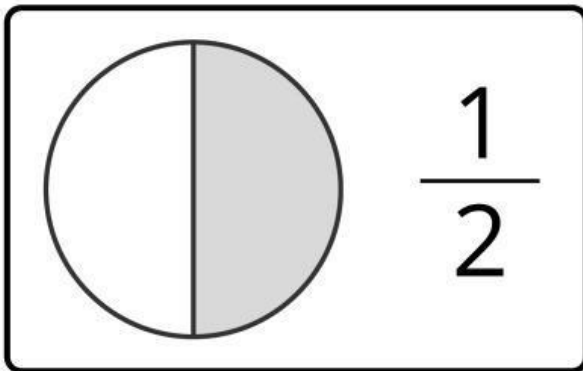
BELAJAR MENENTUKAN PECAHAN



Nama:

Kelas:

Ayo belajar tentang pecahan! Warnai pecahan sesuai dengan nilai pecahan yang tertera dengan tepat.





PENJUMLAHAN DENGAN GAMBAR



PETUNJUK :


Lihat gambar pada setiap soal. Hitung jumlah benda, lalu tuliskan hasilnya.




+



=



+




=




+



=



+



=



+



=

SOAL CERITA MATEMATIKA

NAMA :

KELAS :



PETUNJUK :

Bacalah setiap soal dengan saksama. Tulis jawaban yang benar di kotak.



Sarah memetik 7 buah apel. Kakaknya memberinya 5 buah apel lagi. Berapa banyak apel yang dimilikinya sekarang?



Ada 20 siswa di dalam bus. 8 siswa turun. Berapa banyak siswa yang tersisa di dalam bus?



Emma memiliki 3 ekor anjing. Ia memberikan 4 camilan untuk setiap anjing. Berapa banyak camilan yang ia berikan secara total?



Liam punya 24 permen. Ia ingin membaginya secara merata ke dalam 4 kantong pesta. Berapa banyak permen yang ada di setiap kantong?



Mia membuat 18 kue. Dia memakan 2 kue dan memberikan 6 kue kepada teman-temannya. Berapa banyak kue yang tersisa?