



**PEMERINTAH KABUPATEN NGAWI
DINAS PENDIDIKAN DAN KEBUDAYAAN
SD NEGERI GEMARANG 6**

NPSN. 20509022 NSS. 101050909042 NIS.100420
Alamat: Jl. Raya Ngawi-Solo Km.9 Gemarang,Kedunggalar ☎ 0351-7758310 ✉ 63254
E-mail: Sdngemarang6@yahoo.co.id

**ASESMEN SUMATIF AKHIR SEMESTER I
TAHUN PELAJARAN 2025/2026**

Muatan Pelajaran : Matematika	Hari, Tanggal : Selasa, 18 November 2025
Kelas : IV (Empat)	Waktu : 07.00 – 09.00 WIB

PETUNJUK UMUM :

1. Tulislah nama dan nomor presensimu di sudut kanan atas!
2. Periksa dan bacalah soal-soal dengan teliti sebelum menjawab!
3. Kerjakanlah lebih dulu soal-soal yang kamu anggap mudah!
4. Periksalah kembali pekerjaanmu sebelum kamu serahkan pada gurumu!

I. Berilah tanda silang (x) huruf a, b, c, atau d pada jawaban yang benar!

1. **Dinda** mengambil kartu dengan angka **5.644**.

Kartu angka yang didapat Dinda dibaca....

- a. lima ribu enam ratus enam puluh empat
- b. lima ribu empat ratus enam puluh enam
- c. lima ribu enam ratus empat puluh empat
- d. lima ribu enam ratus enam puluh enam

2. **Bintang** mengambil kartu dengan angka **7.532**.

Angka 5 pada kartu angka yang didapat Bintang berada pada nilai tempat....

- a. puluhan
- b. ratusan
- c. ribuan
- d. satuan

- **Bacalah teks bacaan berikut untuk mengerjakan soal nomor 3!**

Andika mengambil kartu dengan angka **8.654**
Bintang mengambil kartu dengan angka **7.532**
Cinta mengambil kartu dengan angka **4.901**
Dinda mengambil kartu dengan angka **5.644**

3. Urutan kartu yang diambil siswa Bu Bunga dari yang terkecil adalah....

- a. Cinta, Dinda, Bintang dan Andika
- b. Cinta, Dinda, Andika dan Bintang
- c. Andika, Bintang, Cinta dan Dinda
- d. Andika, Bintang, Dinda dan Cinta

4. Pembulatan bilangan ke ribuan terdekat yang benar adalah....

- a. 1.589 dibulatkan menjadi 1.500
- b. 1.589 dibulatkan menjadi 2.000
- c. 1.589 dibulatkan menjadi 2.500
- d. 1.589 dibulatkan menjadi 3.000

- **Bacalah teks bacaan berikut untuk mengerjakan soal nomor 5-6!**

Pak Untung mempunyai peternakan ayam, setiap hari telur ayam yang dipanen berbeda-beda. Selama hari Senin – Kamis Pak Untung mencatat hasil panen telur.
Senin telur yang dipanen **2.435** butir
Selasa telur yang dipanen **1.589** butir
Rabu telur yang dipanen **3.244** butir

5. Jumlah panen hari Senin dan Selasa telur Pak Untung berjumlah....

- a. 4.004
- b. 4.014
- c. 4.024
- d. 4.034

6. Selisih panen hari Kamis dan Rabu telur Pak Untung adalah....

- a. 1.353
- b. 1.453
- c. 1.553
- d. 1.653

7.

$$44 + 36 = 80$$

Bentuk kalimat pengurangannya yang tepat adalah

- a. $36 - 44 = 80$
- b. $44 - 80 = 35$
- c. $80 - 36 = 44$
- d. $44 - 36 = 80$

8.

$$67 + \dots = 95$$

Bilangan yang tepat untuk melengkapi kalimat penjumlahan di atas adalah

- a. 26
- b. 28
- c. 30
- d. 32

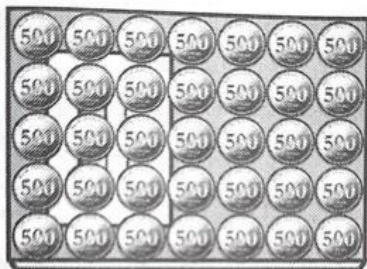
9.

$$76 - \dots = 42$$

Bilangan yang tepat untuk melengkapi kalimat pengurangan di atas adalah

- a. 28
- b. 30
- c. 32
- d. 34

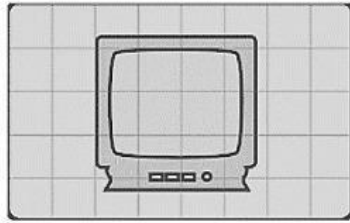
10.



Perhatikan gambar buku di samping!
Luas buku tersebut adalah...uang koin.

- a. 15
- b. 25
- c. 35
- d. 45

11.

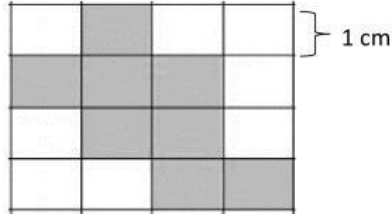


Perhatikan gambar televisi di samping!

Luas gambar televisi tersebut adalah...satuan persegi.

- a. 12
- b. 13
- c. 14
- d. 15

12.




Perhatikan gambar bidang di samping!

Luas bidang yang diarsir tersebut adalah...cm²

- a. 6
- b. 7
- c. 14
- d. 21

13.

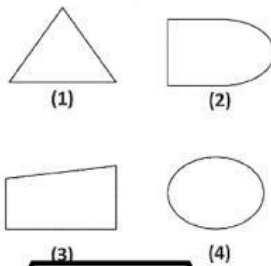


Perhatikan gambar bidang di samping!

Luas bidang yang diarsir tersebut adalah...m²

- a. 17
- b. 18
- c. 19
- d. 20

14.

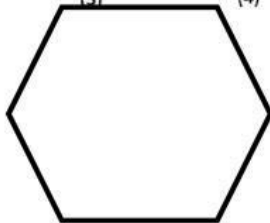


Perhatikan gambar bentuk bangun datar di samping!

Beikut yang termasuk bangun segi banyak ditunjukkan nomor....

- a. (1) dan (3)
- b. (2) dan (3)
- c. (3) dan (2)
- d. (4) dan (2)

15.

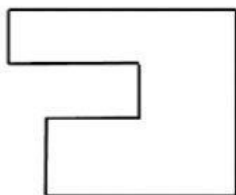


Perhatikan gambar bentuk bangun datar di samping!

Banyaknya sisi pada bangun di samping adalah....

- a. 4
- b. 5
- c. 6
- d. 8

16.



Perhatikan gambar bentuk bangun datar di samping!

Banyaknya sisi pada bangun di samping adalah....

- a. 7
- b. 8
- c. 9
- d. 10

Perhatikan tabel di bawah ini untuk mengerjakan soal nomor 17-18!

Hasil Panen Apel Desa Mekar dalam 3 Bulan	
Bulan	Hasil Panen (dalam kg)
Maret	
April	
Mei	

17. Jumlah panen Bulan Maret Desa Mekar berjumlah....

- a. 65 kg
- b. 60 kg
- c. 55 kg
- d. 40 Kg

18. Selisih panen bulan April dan Mei adalah....

- a. 5 kg
- b. 20 kg
- c. 25 kg
- d. 30 Kg

19. Jumlah panen April dan Mei sebanyak....

- a. 80 kg
- b. 85 kg
- c. 90 kg
- d. 95 Kg

Gambar 1 Diagram Gambar

Bulan	Hasil panen ( = 100 ton)
Januari	
Februari	
Maret	
April	
Mei	
Juni	

20.

Perhatikan diagram gambar di samping!
Hasil panen terbanyak terdapat pada bulan....

- a. Mei
- b. Juni
- c. April
- d. Januari

II. Isilah titik-titik dibawah ini dengan jawaban yang benar!

21. Bilangan yang dibaca "empat ribu enam ratus tujuh puluh empat" adalah....

22. 6.567...6.576 Tanda pembandingan yang tepat untuk adalah....

23. $4.569 + 1.305 =$

24. $8.000 - 3.750 =$

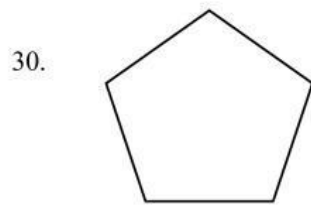
25. $23 + \dots = 71$ Bilangan yang tepat untuk melengkapi penjumlahan tersebut adalah....

26. $80 - \dots = 43$ Bilangan yang tepat untuk melengkapi pengurangan tersebut adalah....

27.  Luas meja tersebut adalah...piring

28.  Luas bidang tersebut adalah...cm²

29. Bangun segi banyak dibatasi oleh garis....



Jumlah sisi bangun disamping adalah....

III. Jawablah pertanyaan-pertanyaan di bawah ini dengan benar!

31. Aku adalah bilangan ribuan.

Angka 2 menempati nilai tempat ratusan.

Angka 7 menempati nilai tempat ribuan.

Angka 8 menempati nilai tempat satuan.

Angka 5 menempati nilai tempat puluhan.

Tuliskan bilangan yang dimaksud dengan ketentuan tersebut!

Jawab :

32. Bu Ratih memiliki pohon rambutan. Ia mentik rambutan sebanyak 74 buah, kemudian rambutan tersebut dibagikan kepada tetangganya. Sekarang tersisa 35 rambutan.

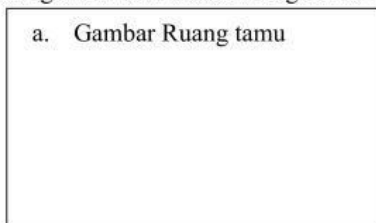
Buatlah kalimat pengurangan untuk untuk menentukan banyak rambutan yang dibagikan kepada tetangga!

Jawab : . - =

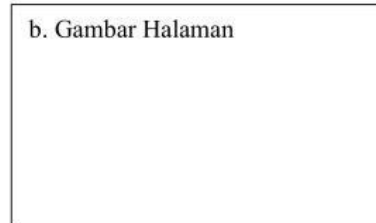
33. Rumah Pak Doni memiliki beberapa ruangan. Ruang tamu dengan luas 5 satuan persegi. Kamar Pak Doni 6 satuan luas. Kamar anak 4 satuan luas. Kamar mandi 2 satuan luas. Dapur 3 satuan luas dan halaman 7 satuan luas.

Buatlah gambar dari luas dari bagian rumah berikut

a. Gambar Ruang tamu



b. Gambar Halaman










34. Aku memiliki tiga sisi . Banyak sudutku adalah tiga. Salah satu sudutku merupakan sudut siku-siku.

Tuliskan nama bangun yang sesuai dengan ketentuan tersebut!

Jawab :

35. Data Peminjam Buku Perpustakaan

Hari	Frekuensi (banyak siswa)
Senin	
Selasa	
Rabu	
Kamis	
Jum'at	
Sabtu	

 : mewakili 5 siswa

Perhatikan diagram gambar disamping!

Hitunglah selisih jumlah siswa yang meminjam buku pada hari Jum'at dan Selasa!

Jawab :

.....

.....

====Selamat mengerjakan=====