







Nama:

Kelas:

## Macam - Macam Alat Ukur

Lengkapilah tabel di bawah ini dengan menulis nama alat dan fungsinya!

Gambar	Nama Alat	Fungsi
	<div>.....</div> <div>.....</div> <div>.....</div>	<div>.....</div> <div>.....</div> <div>.....</div>
	<div>.....</div> <div>.....</div> <div>.....</div>	<div>.....</div> <div>.....</div> <div>.....</div>
	<div>.....</div> <div>.....</div> <div>.....</div>	<div>.....</div> <div>.....</div> <div>.....</div>
	<div>.....</div> <div>.....</div> <div>.....</div>	<div>.....</div> <div>.....</div> <div>.....</div>
	<div>.....</div> <div>.....</div> <div>.....</div>	<div>.....</div> <div>.....</div> <div>.....</div>
	<div>.....</div> <div>.....</div> <div>.....</div>	<div>.....</div> <div>.....</div> <div>.....</div>