


# Lembar Kerja Peserta Didik

# MATEMATIKA

Ayo membilang sampai dengan 20



NAMA :

---

KELAS :

---

## **TUJUAN PEMBELAJARAN**

1. Peserta didik dapat menghitung banyak benda sampai dengan bilangan 20 dengan benar.
2. Peserta didik dapat membaca dan menulis lambang bilangan 1-20 dengan tepat.
3. Peserta didik dapat menyebutkan nama bilangan sesuai dengan lambangnya.
4. Peserta didik dapat mencocokkan jumlah benda dengan lambang bilangannya.

## **kompetensi yang Akan Dicapai**

Peserta didik mampu mengenali, membaca, menulis, dan menyebut bilangan secara berurutan sampai dengan 100 dengan bantuan benda konkret di lingkungan sekitar.

Pada kegiatan ini, peserta didik difokuskan untuk mengenal bilangan 1-20, memahami nilai tempat sederhana, serta membandingkan jumlah benda berdasarkan bilangan yang sesuai.

## **Materi Pembelajaran**

- Mengenal dan menghitung bilangan 1-20.
- Membaca lambang dan nama bilangan.
- Menulis bilangan dengan benar dan rapi.
- Mencocokkan jumlah benda dengan lambang bilangannya.
- Membandingkan dua bilangan sederhana (lebih banyak, lebih sedikit, sama banyak).

## **Alat dan Bahan**

- Lembar kerja peserta didik (LKPD).
- Gambar benda (buah, sayur, lampu, hadiah, hewan, dll).
- Kartu angka 1-20.
- Pensil dan penghapus.
- Krayon atau spidol warna.



## Petunjuk Kerja



- Amati setiap gambar benda pada lembar kerja!
- Hitunglah jumlah benda dengan teliti.
- Tulislah lambang bilangan (angka) pada kolom yang tersedia.
- Tulis juga nama bilangannya dengan huruf, misalnya: 15 → lima belas.
- Pada lembar berikutnya, lingkarilah lambang bilangan yang sesuai dengan jumlah gambar.
- Kerjakan dengan hati-hati dan periksa kembali hasil pekerjaanmu sebelum dikumpulkan.

Nama : \_\_\_\_\_


Tanggal: \_\_\_\_\_

## Menghitung, Membaca, Dan Menulis Bilangan


Hitunglah banyak benda berikut. Tulis hasilnya!





.....



.....



.....




.....


Nama : \_\_\_\_\_


Tanggal: \_\_\_\_\_


## Menghitung, Membaca, Dan Menulis Bilangan

Lingkarilah lambang bilangan yang sesuai dengan jumlah gambar!

	9
	11
	12

	17
	15
	13

	15
	13
	14

	20
	19
	18



Nama : \_\_\_\_\_

Tanggal: \_\_\_\_\_

## Menghitung, Membaca, Dan Menulis Bilangan

Hitunglah banyak benda berikut. Tulis lambang dan nama bilangannya

Benda

Lambang Bilangan

Nama Bilangan




.....

.....



.....

.....



.....

.....



.....

.....