

# LKS Tematik Tema 8

Kelas III

Muatan Matematika





































Nama: \_\_\_\_\_

Diagram Gambar



Isilah dengan tepat sesuai dengan data yang disajikan!

Berikut adalah data hewan peliharaan David!

Kepiting	         
Cumi-cumi	               
Bintang laut	     
Ikan	   

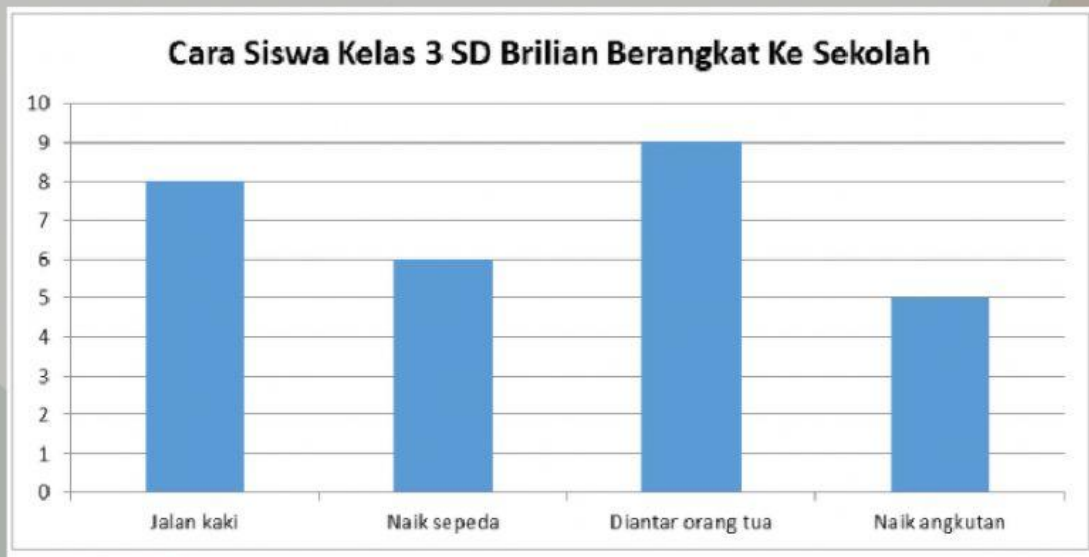
1. Cumi-cumi yang dimiliki David ada \_\_\_\_ ekor.
2. David memiliki \_\_\_\_ bintang laut.
3. Ikan yang David miliki di akuariumnya ada \_\_\_\_ ekor
4. Ada \_\_\_\_ kepiting di dalam akurium David.
5. Manakah yang lebih banyak, ikan atau kepiting? \_\_\_\_\_  
Berapa selisih/bedanya? \_\_\_\_\_
6. Manakah peliharaan David yang lebih sedikit? bintang laut atau kepiting? \_\_\_\_\_  
Berapa selisih/bedanya? \_\_\_\_\_

Amatilah diagram berikut untuk menjawab soal nomor 7–9!



7. Siswa yang mendapat nilai 80 adalah ....
  - A. Raka
  - B. Rima
  - C. Vito
  - D. Aldi
8. Siswa yang mendapat nilai 70 ada ... orang.
  - A. satu
  - B. dua
  - C. tiga
  - D. empat
9. Nilai tes Bahasa Inggrisnya Angga adalah ....
  - A. 80
  - B. 70
  - C. 60
  - D. 50

Perhatikan diagram berikut untuk menjawab soal nomor 10–14!



10. Jumlah siswa yang berangkat sekolah dengan sepeda ada . . . orang.
  - A. 5
  - B. 6
  - C. 8
  - D. 10
11. Ada . . . siswa yang berangkat sekolah dengan berjalan kaki.
  - A. 5
  - B. 6
  - C. 8
  - D. 10
12. Cara yang dipakai siswa untuk berangkat ke sekolah paling banyak adalah dengan cara . . .
  - A. naik sepeda
  - B. berjalan kaki
  - C. naik angkutan umum
  - D. diantar orang tua
13. Selisih siswa yang berangkat sekolah dengan menaiki sepeda dan memakai angkutan adalah . . .
  - A. 1 siswa
  - B. 2 siswa
  - C. 3 siswa
  - D. 4 siswa



14. Jumlah seluruh siswa yang berangkat ke sekolah ada . . .

- A. 27 siswa
- B. 28 siswa
- C. 29 siswa
- D. 30 siswa

*Perhatikan diagram untuk menjawab soal nomor 15–20!*

Data Pengunjung Perpustakaan



15. Jumlah pengunjung pada hari Kamis adalah sebanyak . . .

- A. 4 orang
- B. 12 orang
- C. 20 orang
- D. 25 orang

16. Jumlah pengunjung sebanyak 15 orang terjadi pada hari . . .

- A. Senin
- B. Selasa
- C. Rabu
- D. Kamis

17. Jumlah pengunjung terbanyak, terjadi pada hari . . .

- A. Kamis, sebanyak 20 orang
- B. Kamis sebanyak 4 orang
- C. Rabu sebanyak 25 orang
- D. Rabu sebanyak 5 orang

18. Selisih jumlah pengunjung pada hari Senin dan Sabtu adalah . . . .
- A. 2 orang
  - B. 4 orang
  - C. 5 orang
  - D. 10 orang
19. Selisih pengunjung pada dari Rabu dan Sabtu adalah . . . .
- A. 30 orang
  - B. 20 orang
  - C. 6 orang
  - D. 4 orang
20. Jumlah pengunjung perpustakaan selama 1 pekan/minggu adalah sebanyak . . . .
- A. 75 orang
  - B. 80 orang
  - C. 85 orang
  - D. 90 orang

Alhamdulillah

