

Nama:

no:

kelas:



# DESKRIPSI SINGKAT E-LKPD

## **TUJUAN PEMBELAJARAN**

Dengan mengerjakan E-LKPD, siswa mampu, menyebutkan jumlah simetri putar dan lipat pada beberapa bangun datar, dan juga menyebutkan jenis-jenis sudut

## **PERTUNJUK PENGGUNAAN E-LKPD**

1. Lengkapi nama, no absen, dan kelas terlebih dahulu.
2. Bacalah setiap pertanyaan dengan teliti.
3. Gunakan kalimatmu sendiri dan dengan jujur.
4. Jawab langsung di kolom yang disediakan.

# MENCOCOKKAN NAMA BANGUN


cocokkan bangun berikut dengan nama  
bangun yang benar!



segitiga



persegi







persegi  
panjang



lingkaran

## **PERTUNJUK Pengerjaan:**

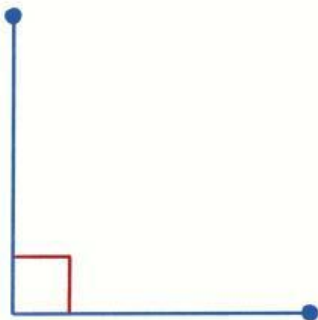
1. Amati gambar bangun datar pada tabel di bawah.
2. Tuliskan jumlah simetri lipat dan simetri putar masing-masing bangun.
3. Isilah kolom yang tersedia secara langsung.

Gambar Bangun Datar	Jumlah Simetri Lipat	Jumlah Simetri Putar
		
		
		
		

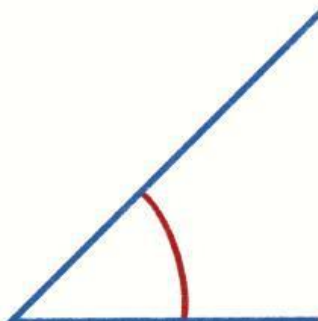


# HUBUNGKAN NAMA DENGAN JENIS SUDUT:

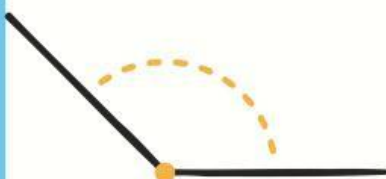
Tarik garis dari gambar sudut ke nama bagian yang benar.



Sudut Siku-siku



Sudut Lancip



Sudut Tumpul