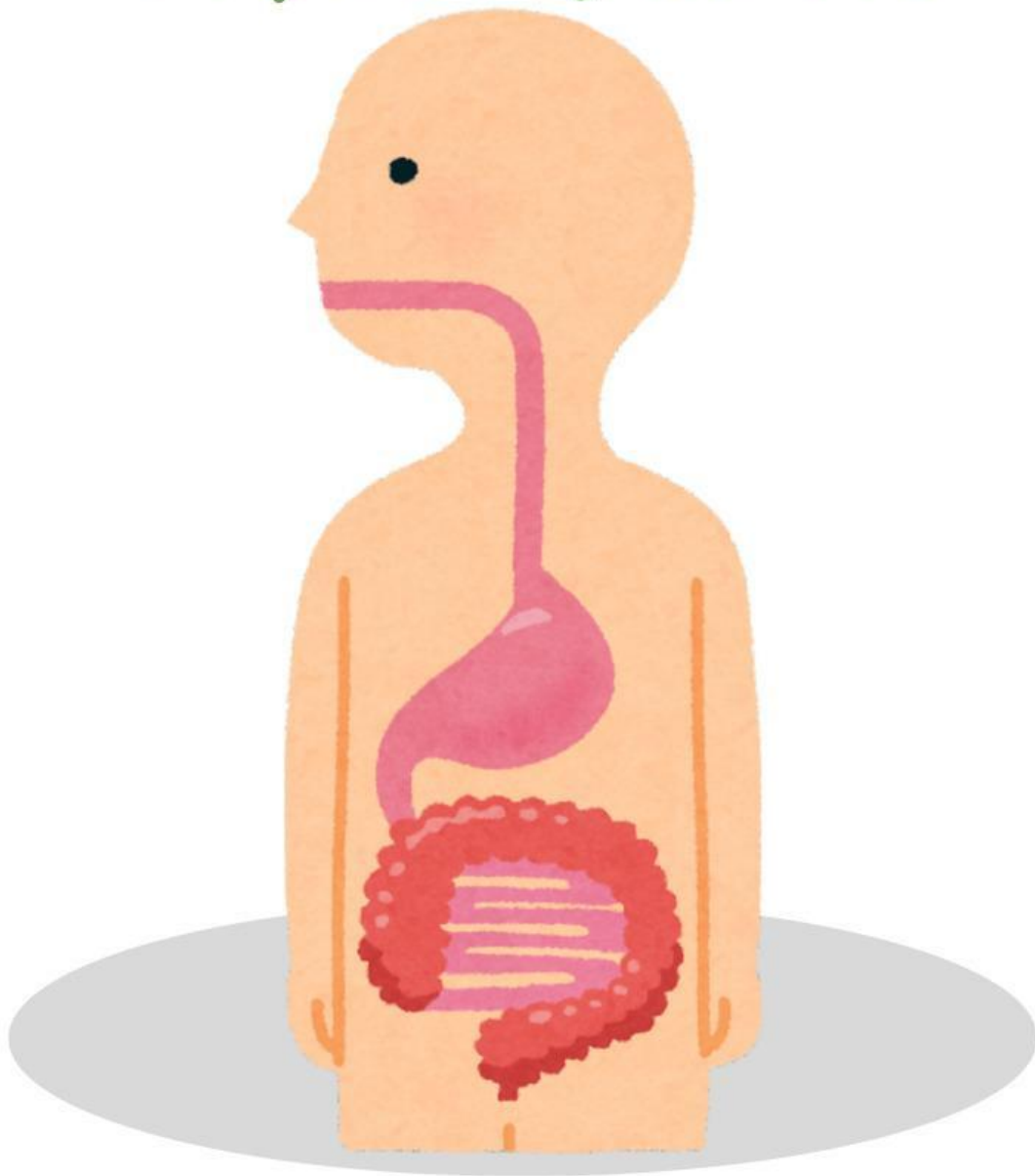


LKPD

Mapel Biologi Kelas XI



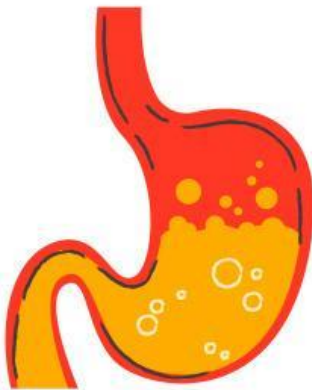
Nama: _____

Kelas: _____

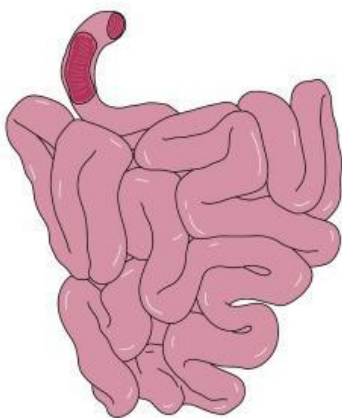
Jodohkan gambar yang sesuai dengan fungsinya



TEMPAT PENYERAPAN
ZAT MAKANAN



TEMPAT PENYERAPAN
AIR



TEMPAT
PENCERNAAN
MEKANIK DAN
KIMIAAWI

Tempatkan bagian yang sesuai dengan cara memindahkan kolom yang ada

NO	Organ Pencernaan	Fungsi	Proses yang Terjadi
1.	Mulut		
2.	Kerongkongan	Salurkan Makanan	
3.			
4.			Enzim Tripsin, Lipase, Amilase
5.	Usus Besar		
6.		Keluarkan Sisa Makanan	

Centanglah pernyataan yang menurutmu benar

Usus besar menyerap air dan mineral dari sisa makanan ☐

Anus berfungsi mencerna karbohidrat ☐

Lambung menghasilkan enzim pepsin untuk mencerna protein ☐

Menurutmu, apa yang terjadi jika seseorang tidak mengunyah makanan dengan baik sebelum ditelan?

