





1. Remdamasis lentelėje pateikta informacija apskaičiuok, kiek kiekvienos rūšies jogurtų suvalgė vaikai.

Jogurto rūšis	Vanilinis	Bananinis	Braškinis	Avietinis
Jogurtų skaičius	40	32	27	42
Suvalgytų jogurtų dalis	$\frac{1}{8}$	$\frac{1}{4}$	$\frac{1}{9}$	$\frac{1}{6}$
Suvalgytų jogurtų skaičius				

2. Nuspalvink:

$\frac{1}{9}$ braškių	
$\frac{1}{7}$ apelsinų	
$\frac{1}{5}$ slyvų	
$\frac{1}{4}$ obuolių	
$\frac{1}{3}$ kriaušių	