


LKPD

KONSEP DASAR SEGI EMPAT


Oleh: Memen Permata Azmi

A. Materi

Perhatikan video berikut ini



Perhatikan materi presentasi berikut



Contoh soal



Audio



B. Kegiatan Peserta Didik



Kegiatan 1. Teksfield

Segi empat yang memiliki dua pasang sisi sejajar dan keempat sudutnya siku-siku adalah...

Segi empat yang memiliki dua pasang sisi sejajar yang semua sisinya sama panjang dan keempat sudutnya siku-siku adalah...



Kegiatan 2. Single Choice

Berikut ini adalah sifat-sifat segi empat, kecuali...

Bangun segi empat lain yang tidak bisa dikatakan bangun jajar genjang adalah...



Kegiatan 3. Checkboxes

Pernyataan yang benar adalah...

- Setiap persegi adalah belah ketupat
- Setiap jajar genjang adalah belah ketupat
- Tidak setiap jajar genjang adalah persegi panjang



Kegiatan 4. Select

Bangun segi empat yang tidak dapat ditentukan luas daerahnya menggunakan rumus luas daerah trapesium adalah...

- | | |
|--|--|
| <input type="checkbox"/> Persegi panjang | <input type="checkbox"/> Layang-layang |
| <input type="checkbox"/> Jajar genjang | <input type="checkbox"/> Belah ketupat |



Kegiatan 5. Word Search

Temukan 5 kata tentang segi empat pada kotak di bawah ini

A	W	R	T	Y	R	B	H	J	K
Y	T	R	A	P	E	Z	O	I	D
Z	C	V	Y	R	C	D	D	H	Q
K	R	G	H	T	T	H	R	L	K
M	I	H	K	F	A	L	H	H	F
S	H	T	C	H	N	F	O	D	G
H	S	Z	E	Q	G	C	M	R	H
F	V	X	D	R	L	W	B	Y	R
S	Q	U	A	R	E	L	U	H	R
Z	D	C	A	S	W	Q	S	A	N



Kegiatan 6. Drag & Drop

Geser bangun segi empat berwarna kuning berikut pada pernyataan yang tepat

Belah ketupat yang memiliki sudut siku-siku



Jajar genjang yang memiliki sudut siku-siku

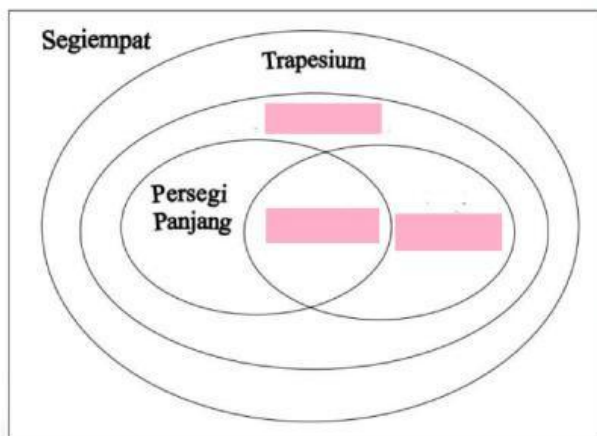


Jajar genjang yang semua ukuran sisinya sama



Kegiatan 7. Join

Tarik garis dari bagian diagram venn yang kosong ke jawaban yang benar



Persegi

Jajar genjang

Belah ketupat



Kegiatan 8. Speak

Sebutkan nama bangun segi empat berikut dengan tepat



Kegiatan 9. Listening

Dengarkan suara berikut dan tuliskan jawabannya



Kegiatan 10. Open Answer

Tuliskan definisi segi empat