


# LKPD

## Lembar Kerja Peserta Didik

Penjumlahan yang hasilnya sampai 20


Perhatikan Video Berikut !




Kelompok : \_\_\_\_\_

# Pejumlahan 1-20

Hubungkanlah dengan garis jumlah gambar yang sama banyaknya dengan hasil penjumlahan!




$$6+5$$



$$6+4$$



$$5+3$$










$$7+5$$

Nama:

Kelas:

# Menulis Hasil Penjumlahan

Tulis angka di dalam Kotak sesuai hasil penjumlahan gambar!



Nama: \_\_\_\_\_

Kelas: \_\_\_\_\_

# Penjumlahan dengan Kode

Tulis hasil penjumlahan lingkaran berwarna sesuai dengan kode angka berikut ini!



$$\text{Cyan Circle} + \text{Orange Circle} = \boxed{3}$$

$$\text{Lime Green Circle} + \text{Pink Circle} = \boxed{\phantom{00}}$$

$$\text{Orange Circle} + \text{Red Circle} = \boxed{\phantom{00}}$$

$$\text{Cyan Circle} + \text{Pink Circle} = \boxed{\phantom{00}}$$

$$\text{Lime Green Circle} + \text{Red Circle} = \boxed{\phantom{00}}$$







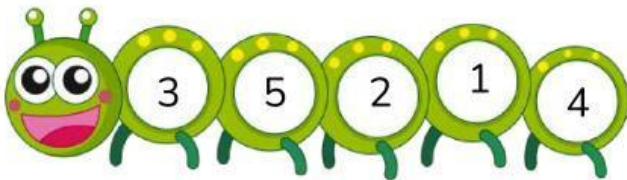
Nama:

Kelas:

# Mengurutkan Bilangan

## Petunjuk Belajar

Angka-angka di badan ulat ini masih berantakan. Tulis kembali angka-angka itu di badan ulat yang kosong di bawahnya. Mulailah dari angka yang paling kecil ya!

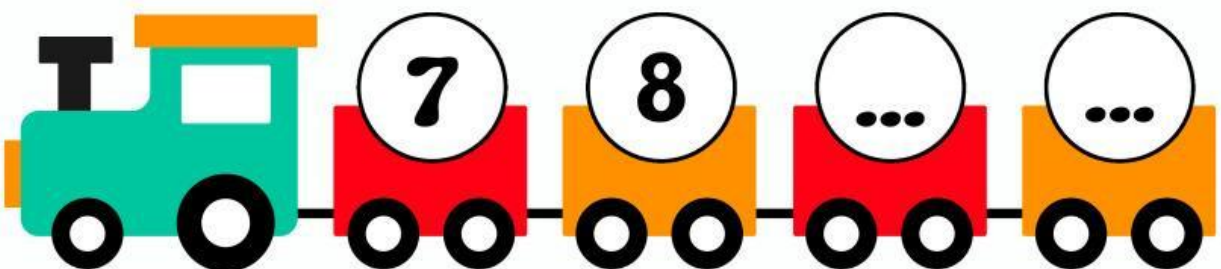


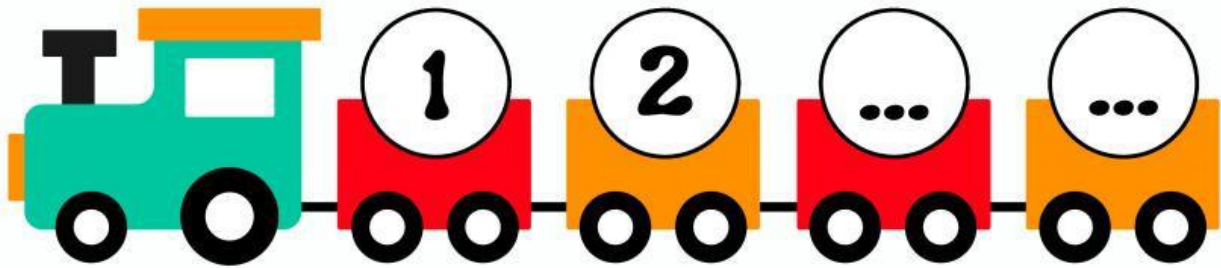


Nama: \_\_\_\_\_

Tanggal: \_\_\_\_\_

# Menulis Angka 1-10

Tulislah urutan angka yang hilang pada tiap kereta!

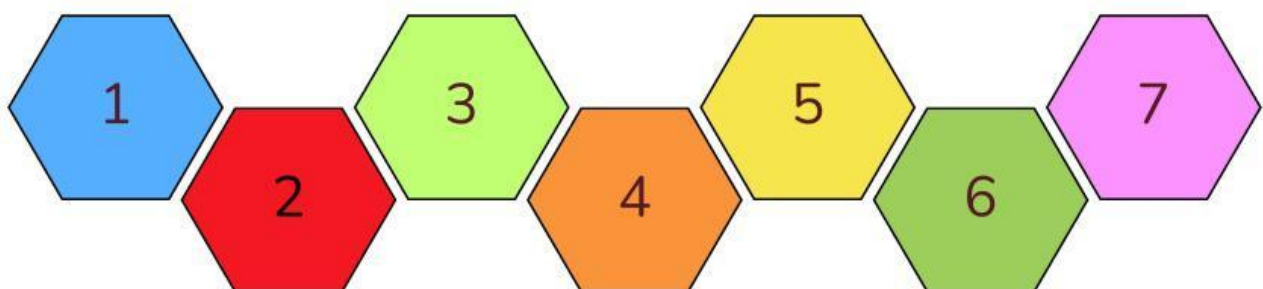



Nama :

Kelas :

# MEWARNAI PENGURANGAN

Warnailah segi enam di bawah ini sesuai dengan hasil operasi hitung pengurangan yang tepat!





# PENJUMLAHAN DAN PENGURANGAN

NAMA :

KELAS :



PETUNJUK :

Mari bersama menjawab soal  
Penjumlahan & Pengurangan!

$$(6) + (2) = \bigcirc$$

$$(5) - (1) = \bigcirc$$

$$(3) + (3) = \bigcirc$$

$$(8) - (2) = \bigcirc$$

$$(1) + (7) = \bigcirc$$

$$(3) - (1) = \bigcirc$$

$$(6) + (1) = \bigcirc$$

$$(8) - (4) = \bigcirc$$

$$(2) + (8) = \bigcirc$$

$$(9) - (7) = \bigcirc$$



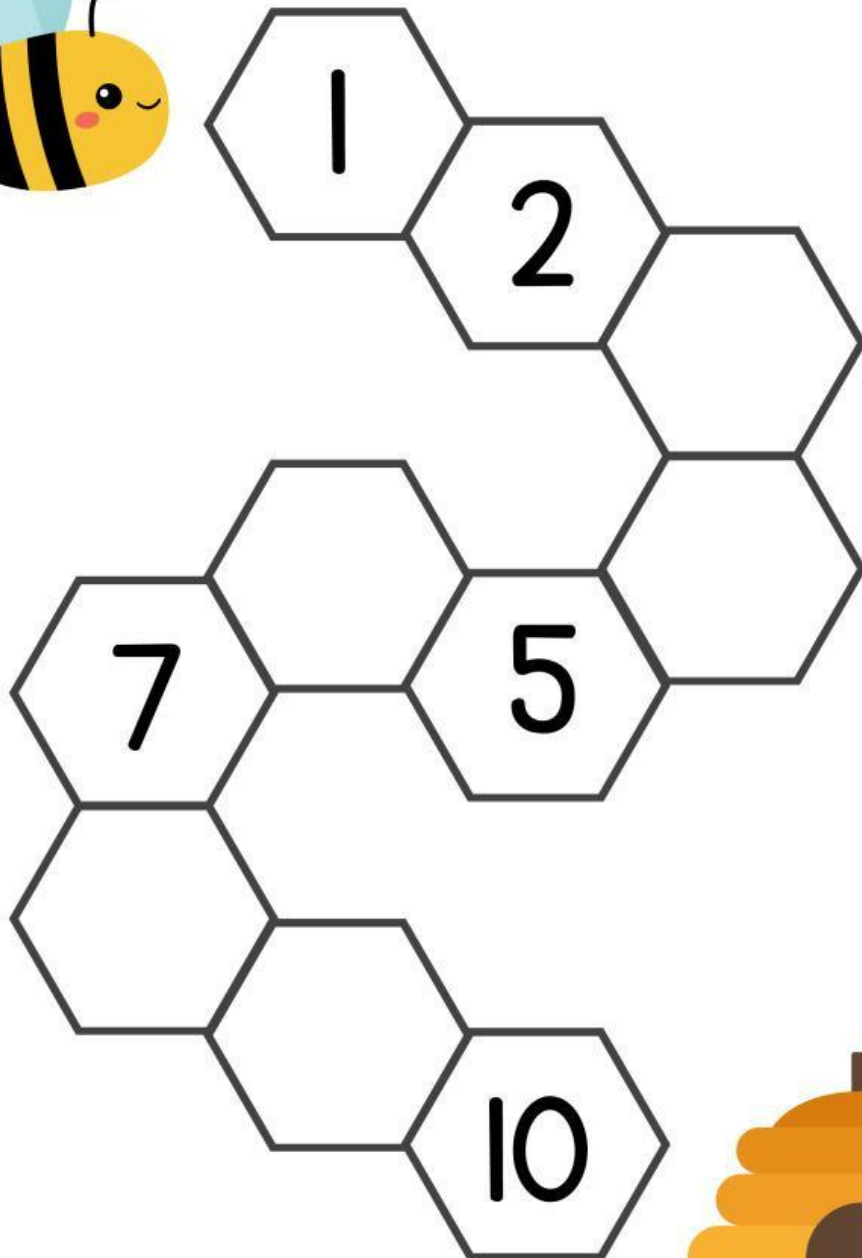


Nama:

Kelas:

# Angka yang Hilang

Yuk bantu lebah kembali ke sarangnya dengan menulis angka yang hilang.



Nama:

Kelas:

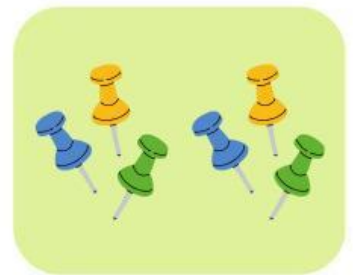
# Berhitung 1 Sampai 10

Ayo hitung dan pasangkan dengan bilangan yang tepat!



1

3

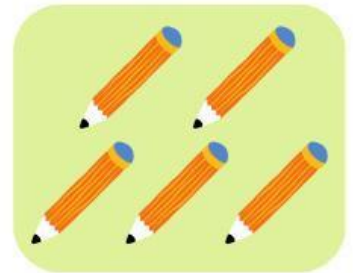


4

5



6



7

8



9

10

