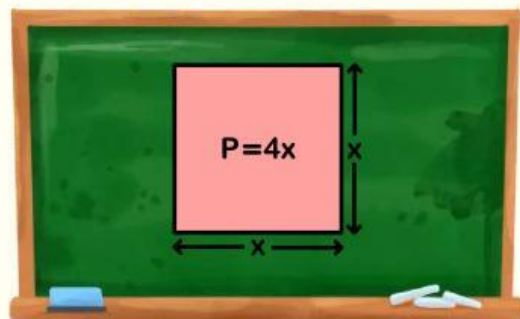


Matemáticas

ÁREA Y PERÍMETRO DE FIGURAS SIMPLES



Ficha de Refuerzo

Geometría plana – Propiedades de áreas y perímetros

*Objetivo: Reforzar el cálculo del
área y el perímetro en figuras
geométricas planas básicas.*



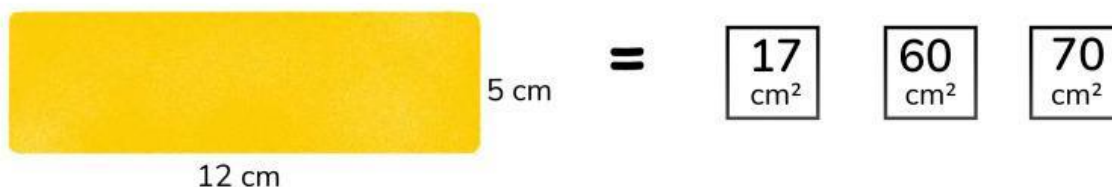
Ficha de Refuerzo Área y Perímetro de Figuras Simples

• INSTRUCCIONES:

- ★ Observa las figuras y resuelve los ejercicios aplicando las fórmulas del área y del perímetro.
- ★ Escribe tus respuestas en los espacios correspondientes.
- ★ No olvides colocar las unidades (cm o m).

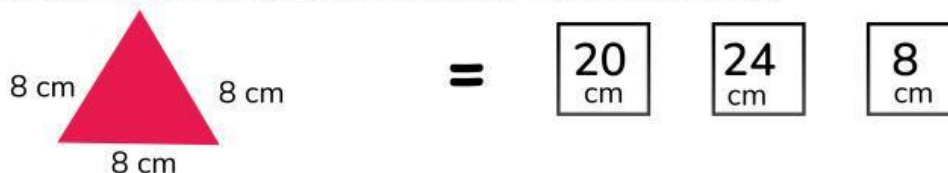
1 Resuelve:

Calcula el área de un rectángulo de base 12 cm y altura 5 cm.



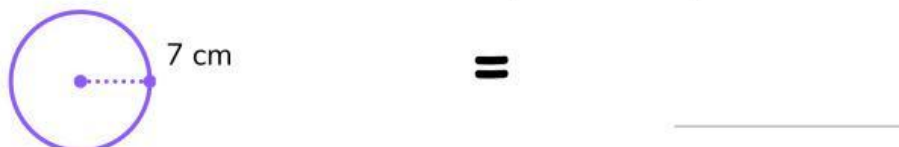
2 Resuelve:

Halla el perímetro de un triángulo equilátero con lados de 8 cm.



3 Resuelve:

Calcula el área de un círculo de radio 7 cm (usa $\pi = 3.14$).



4 Resuelve:

Un cuadrado tiene un perímetro de 40 cm. ¿Cuánto mide cada lado?



5 Resuelve:

Un terreno tiene forma rectangular de 25 m \times 10 m. ¿Cuál es su área?

EN LETRAS = _____