



DALLA FRAZIONE AI NUMERI DECIMALI: guarda i disegni e scrivi in numero la quantità.









Benedetta va in panificio e acquista		pizzette.
Andrea va in panificio e acquista		pizzette.
Marco va in panificio e acquista		pizzette.
Kimberly va in panificio e acquista		pizzette.
Mattia va in panificio e acquista		pizzette.
Lorenzo va in panificio e acquista		pizzette.

Alcuni amici hanno acquistato parecchie tavolette di cioccolata. Dopo un settimana ecco la quantità mangiata da ciascuno. Scrivila in numero come sopra.

Giovanni mangia		tavolette.
Giorgia mangia		tavolette.
Anfisa mangia		tavolette.

Adam mangia		tavolette.
Nicola mangia		tavolette.

Queste sono le mele che hanno mangiato in una settimana a scuola alcuni alunni. Conta e scrivi in numero quante mele hanno mangiato.

Anja mangia		mele.
Yasmine mangia		mele.
Matteo mangia		mele.
Riccardo mangia		mele.
Eros mangia		mele.
Edoardo mangia		mele.
Bardh mangia		mele.
Matias mangia		Mele.