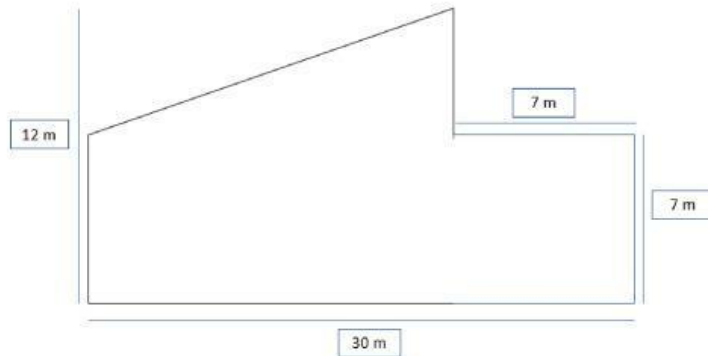
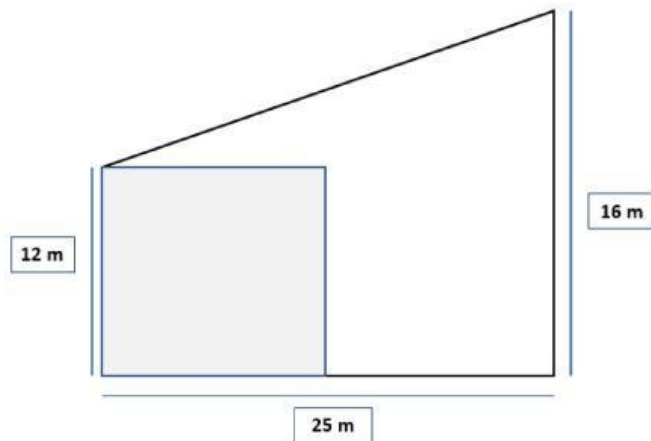


RESUELVE ESTOS PROBLEMAS SOBRE ÁREAS.

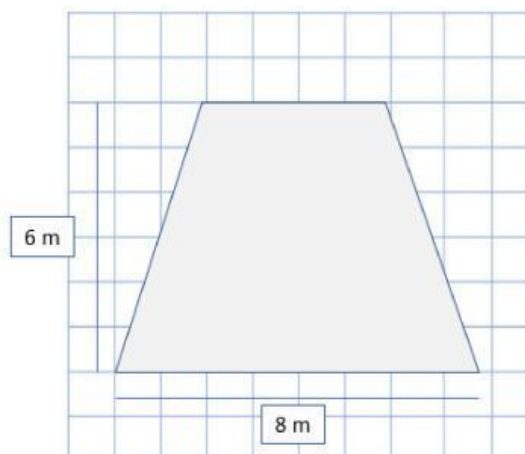
1. El papá de Carmen compra un terreno como se ve en la imagen. Él desea percatarse con exactitud la superficie de su terreno. Él acude a Alain para que e lo calcule exactamente. Cuánto de superficie tiene su terreno. Ayudemos a Alain a calcular el terreno en metros cuadrados.



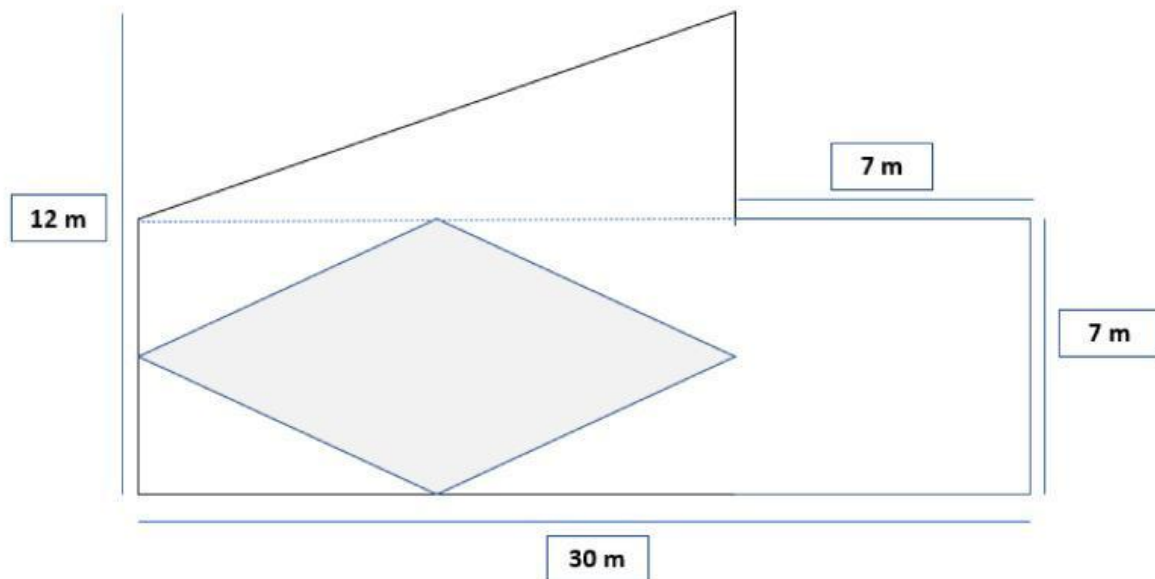
2. El padrino de Yaheli compra un terreno como se ve en la imagen. Él desea sembrar hortalizas en el terreno que se ve en la imagen menos la parte cuadrada. ¿Cuántos metros de superficie sembrará?



3. Calcular el área de la siguiente figura:3



4.- El terreno que se observa pertenece a unos hermanos que solo quieren sembrar papa en la parte sombreada del terreno. ¿Cuánto de área tiene el terreno designado?



5.- Calcula el área de la siguiente figura.

