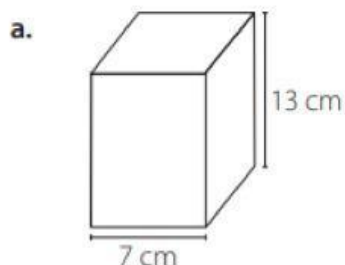


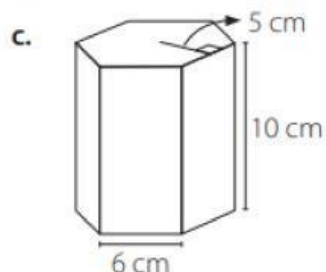
FICHA DE REFUERZO ACADÉMICO – EJERCICIOS DE ÁREAS Y VOLUMEN

NIVEL: 8VO AÑO DE EDUCACION BASICA

Calcula el área total (A_T) de los siguientes prismas rectos cuya base es un polígono regular.



$$A_T = \boxed{}$$

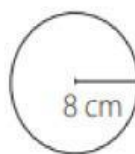


$$A_T = \boxed{}$$



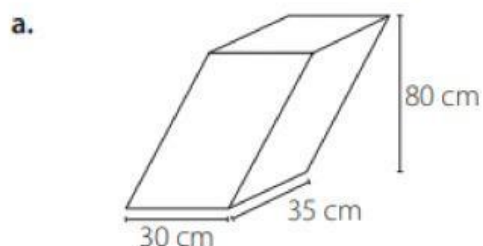
$$A_T = \boxed{}$$

Si las figuras representan las bases y el manto de un cilindro, ¿cuánto mide el largo del rectángulo?

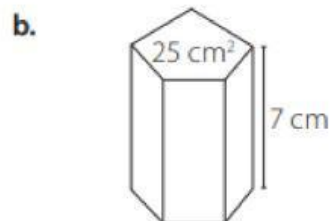


RESPUESTA:

Calcula el volumen (V) de los siguientes prismas.



$$V = \boxed{}$$



$$V = \boxed{}$$