


# LKPD

## Matematika

**Tema:**

Mengukur Benda Dengan  
satuan Baku (cm)



4 CM

Nama Kelompok:

Kelas:

# LKPD

Nama Anggota kelompok :

1....

2....

3....

Kelas :

Tujuan LKPD

Agar peserta didik mahir dalam mengukur benda menggunakan satuan baku cm menggunakan alat pengukur rol.

Capaian Pembelajaran

Pada akhir Fase A, peserta didik dapat membandingkan panjang dan berat benda secara langsung, dan membandingkan durasi waktu. Mereka dapat mengukur dan mengestimasi panjang benda menggunakan satuan tidak baku.

Alat dan Bahan

1. Penggaris dengan satuan cm
2. Pulpen
3. Pensil
4. Stabilo
5. Pisau Cutter
6. Kuas

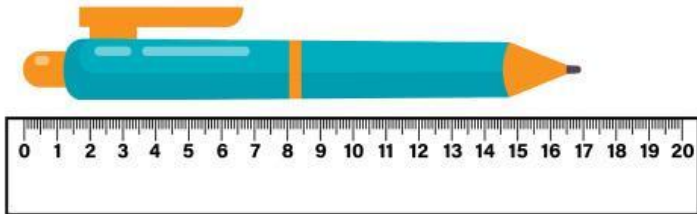
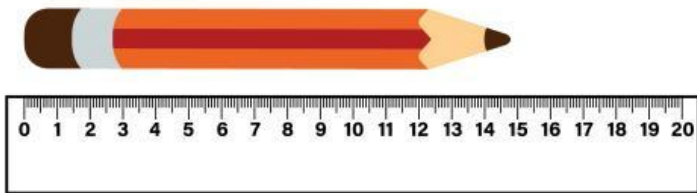
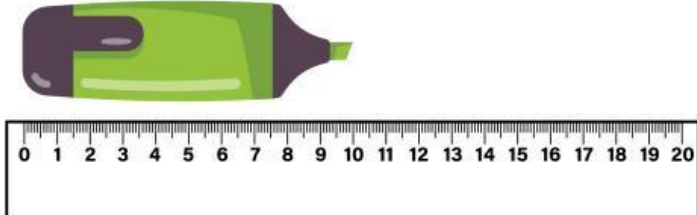
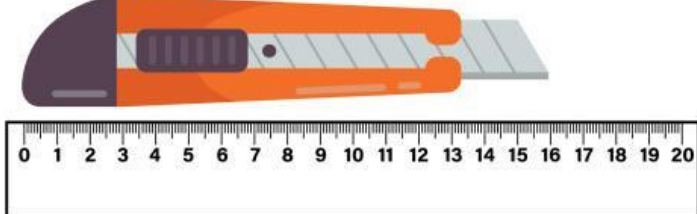
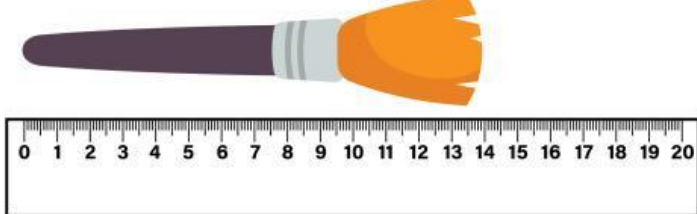
# Langkah Pengerjaan

## Langkah-langkah Pengerjaan

1. Siapkan Penggaris minimal panjang 30 cm
2. Mulailah dari mengukur pena
3. Letakkan salah satu ujung pena di dekat garis angka 0
4. Lihatlah ujung lainnya angka berapa yang sejajar dengan ujung pena.
5. lalu tuliskan angka yang sejajar tersebut pada kotak yang telah disediakan.
6. Lanjutkan menggunakan benda-benda yang sudah disediakan.

# Mengukur Benda

Ukur panjang benda di bawah ini dan tuliskan hasilnya pada tabel di sebelahnya.

Pengukuran panjang benda	Satuan baku
	_____ cm
	_____ cm
	_____ cm
	_____ cm
	_____ cm