

## FICHA INTERACTIVA COMUNICACIÓN y MATEMÁTICA– 2°

### Ficha de Refuerzo

2 Resuelve.

C	D	U
7	5	4
- 2	- 1	- 8

C	D	U
7	5	4
- 2	- 1	- 8

C	D	U
7	5	4
- 2	- 1	- 8

3 Resuelve.


C	D	U
5	4	6
- 1	- 2	- 9

C	D	U
5	4	6
- 1	- 2	- 9

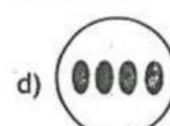


C	D	U
5	4	6
- 1	- 2	- 9

### Patrones de secuencia

4 ¿Qué figura continúa?



.....




.....



## Resolvemos problemas de agrupación

Lee con mucha atención los siguientes problemas y resuelve.

- 1 Marita debe poner las manzanas en bolsas. En cada bolsa debe poner 10 manzanas. ¿Cuántas bolsas usará y cuántas manzanas quedarán sueltas?



14



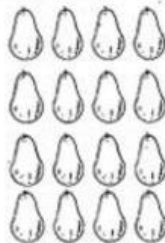
23

- a. Usará 3 bolsas y 4 quedarán sueltas.
- b. Usará 3 bolsas y 7 quedarán sueltas.
- c. Usará 37 bolsas y no quedarán sueltas.

- 2 Rosa debe poner las paltas en bolsas. En cada bolsa debe poner 10 paltas. ¿Cuántas bolsas usará y cuántas paltas quedarán sueltas?



28



16

- a. Usará 3 bolsas y 4 quedarán sueltas.
- b. Usará 4 bolsas y 4 quedarán sueltas.
- c. Usará 44 bolsas y no quedarán sueltas.

- 3 Karina debe poner los polos en bolsas. En cada bolsa debe poner 10 polos. ¿Cuántas bolsas usará y cuántos polos quedarán sueltos?



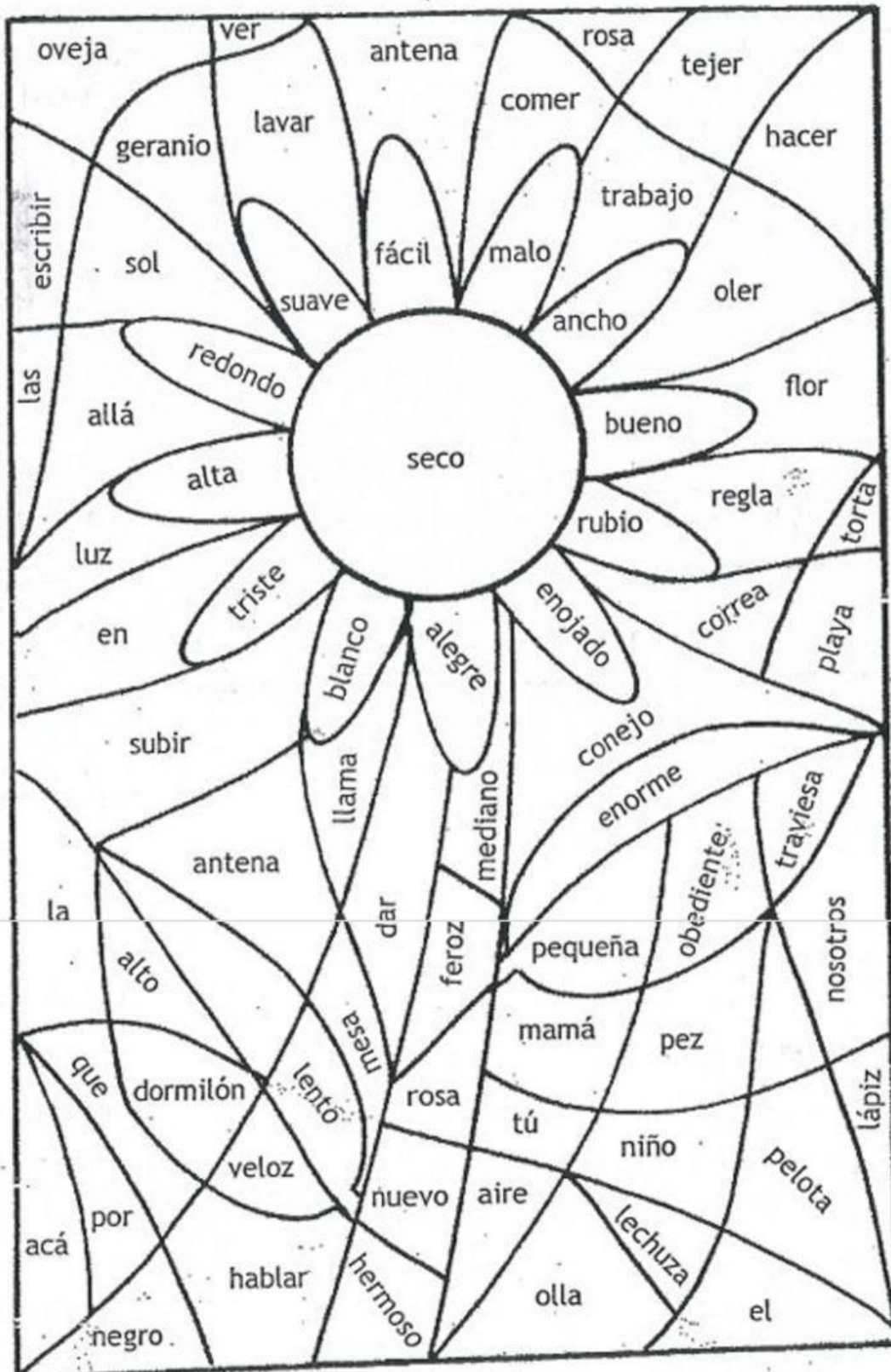
25



36

- a. Usará 51 bolsas y no quedarán sueltos.
- b. Usará 5 bolsas y 1 quedará sueltos.
- c. Usará 6 bolsas y 1 quedará sueltos.

Marca✓ los espacios de los ADJETIVOS.





los nombres propios que encuentro.

