

Nombre:	
Fecha:	Hábito:
Tema:	



**A. INSTRUCCIONES:** Conteste correctamente en el rectángulo del lado derecho

1.- ¿En qué dirección se ubican los números positivos?

2.- ¿En qué dirección se ubican los números negativos?

3.- ¿Cómo se llama el punto que corresponde a cero?

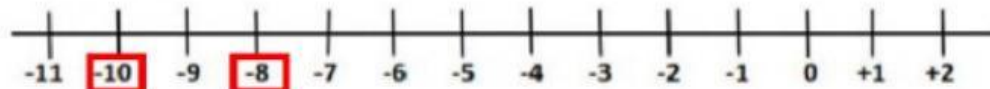
**B. INSTRUCCIONES:** Escriba el nombre de los siguientes signos

>

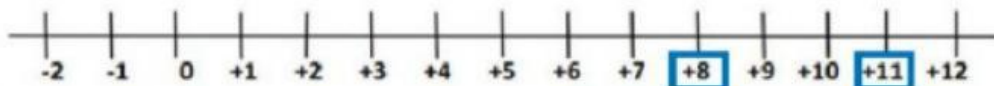
<

**C. INSTRUCCIONES:** Escriba el signo < ó > en cada una de las parejas.

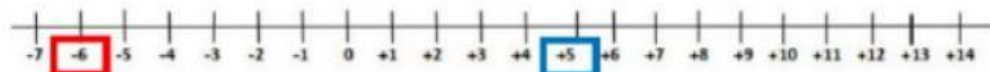
-8  -10



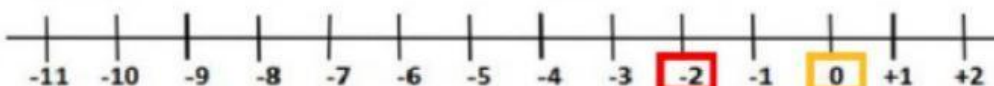
+11  +8



+5  -6



0  -2



**D. INSTRUCCIONES:** Conteste brevemente

1) ¿Cuántos espacios enteros existen entre 0 y -3? R= \_\_\_\_\_ espacios.

2) ¿Cuántos espacios enteros existen entre 0 y +3? R= \_\_\_\_\_ espacios.

3) ¿Cuál está más lejos de 0, -3 o +3? R= Están a la \_\_\_\_\_ distancia.

**E. INSTRUCCIONES:** Escriba el signo < ó > en cada una de las parejas.

a. -21 \_\_\_\_\_ -36

b. -5 \_\_\_\_\_ -4

c. +2.3 \_\_\_\_\_ 0

d. -6.1 \_\_\_\_\_ +2.2

**F. INSTRUCCIONES:** Escriba el valor absoluto de los siguientes números

a)  $|+8| =$  \_\_\_\_\_

b)  $|-5| =$  \_\_\_\_\_

c)  $|0| =$  \_\_\_\_\_

d)  $|-11| =$  \_\_\_\_\_