



**Profesor (a): Maribel García – Mariela Cancino.**

**Asignatura: Matemáticas.**


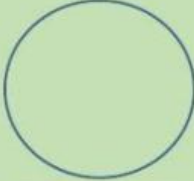
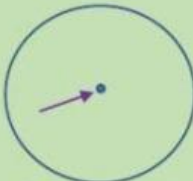
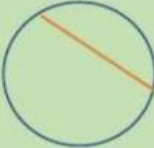


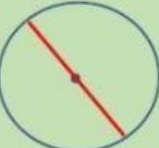
**Curso: Séptimo Básico**

## Círculo y Circunferencia

De acuerdo a lo visto anteriormente, realiza las siguientes actividades:

I.- Relaciona cada concepto con su dibujo

RADIO	CUERDA	CENTRO	DIÁMETRO	ARCO
CÍRCULO		CIRCUNFERENCIA		

			
<input type="text"/>	<input type="text"/>	<input type="text"/>	
			
<input type="text"/>	<input type="text"/>	<input type="text"/>	<input type="text"/>



II. Une con una línea si la imagen es si es círculo o circunferencia



Círculo  
Circunferencia

Circunferencia  
Círculo

