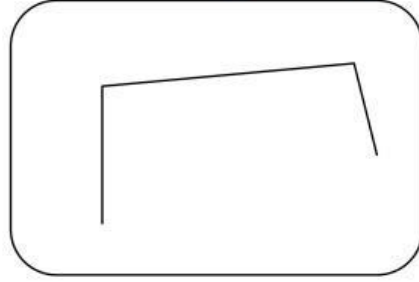


اليوم: _____ فعاليات في الهندسة - الصف الثاني الاسم: _____
التاريخ: _____ ورقة عمل المضلعات

1. أكمل الخط المنكسر المفتوح ليصبح خط منكسر مغلق :

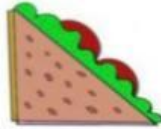


2. صل الأشكال إلى مسمياتها الصحيحة

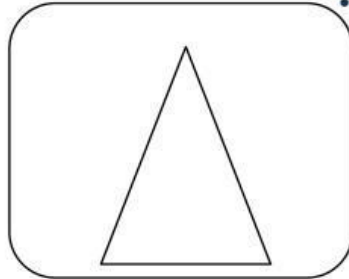
مثلث

خماسي

مربع



3. اكمل بحسب المطلوب:



في المثلث عدد الرؤوس _____ وعدد الأضلاع _____