



## Guía de trabajo Los Mayas, Aztecas e Incas

Mira la infografía:



**Marca con una X las características que tenían en común las civilizaciones azteca, maya e inca.**

- a) \_\_\_\_ Habitaron el mismo territorio.
- b) \_\_\_\_ Su sistema de gobierno era jerárquico, a cargo de un único líder.
- c) \_\_\_\_ Eran politeístas, o sea, creían en varios dioses.
- d) \_\_\_\_ Trabajaban la cerámica
- e) \_\_\_\_ La sociedad estaba organizada en clases muy marcadas.



## Guía de trabajo Los Mayas, Aztecas e Incas



**¿Cuál era la principal actividad económica de las civilizaciones maya, azteca e inca?**

- a) La pesca
- b) La agricultura
- c) La ganadería

**¿A qué civilización americana corresponde la siguiente construcción que se mantiene hasta nuestros días?**

- a) Azteca
- b) Maya
- c) Inca



**¿Qué aspecto de la cultura inca continúa en la actualidad?**

- a) El uso de plantas medicinales, como la hoja de coca.
- b) La organización política.
- c) Los sacrificios humanos

**¿Qué civilizaciones están señaladas en el mapa?**



- a) 1: Aztecas, 2: Mayas, 3: Incas
- b) 1: Incas, 2: Azteca, 3: Mayas
- c) 1: Mayas, 2: Incas, 3: Aztecas

**¿En qué país se ubica hoy la ciudad del Cuzco?**

- a) Argentina
- b) Chile
- c) Perú

**¿Qué cultura precolombina usó la técnica agrícola de las chinampas?**

- a) Maya
- b) Azteca
- c) Inca





## Guía de trabajo Los Mayas, Aztecas e Incas




Si visitáramos a los mayas en una ciudad-Estado y a los aztecas en Tenochtitlán, **¿en qué lugares podríamos encontrar los productos de las imágenes?**

- a) En el templo.
- b) En el mercado.
- c) En el palacio de gobierno.
- d) En el campo de batalla.

2. ¿Qué actividad se relaciona con las imágenes?

- a) La agricultura.
- b) La ganadería.
- c) La astronomía.
- d) La artesanía.



### Chile

En el mapa:

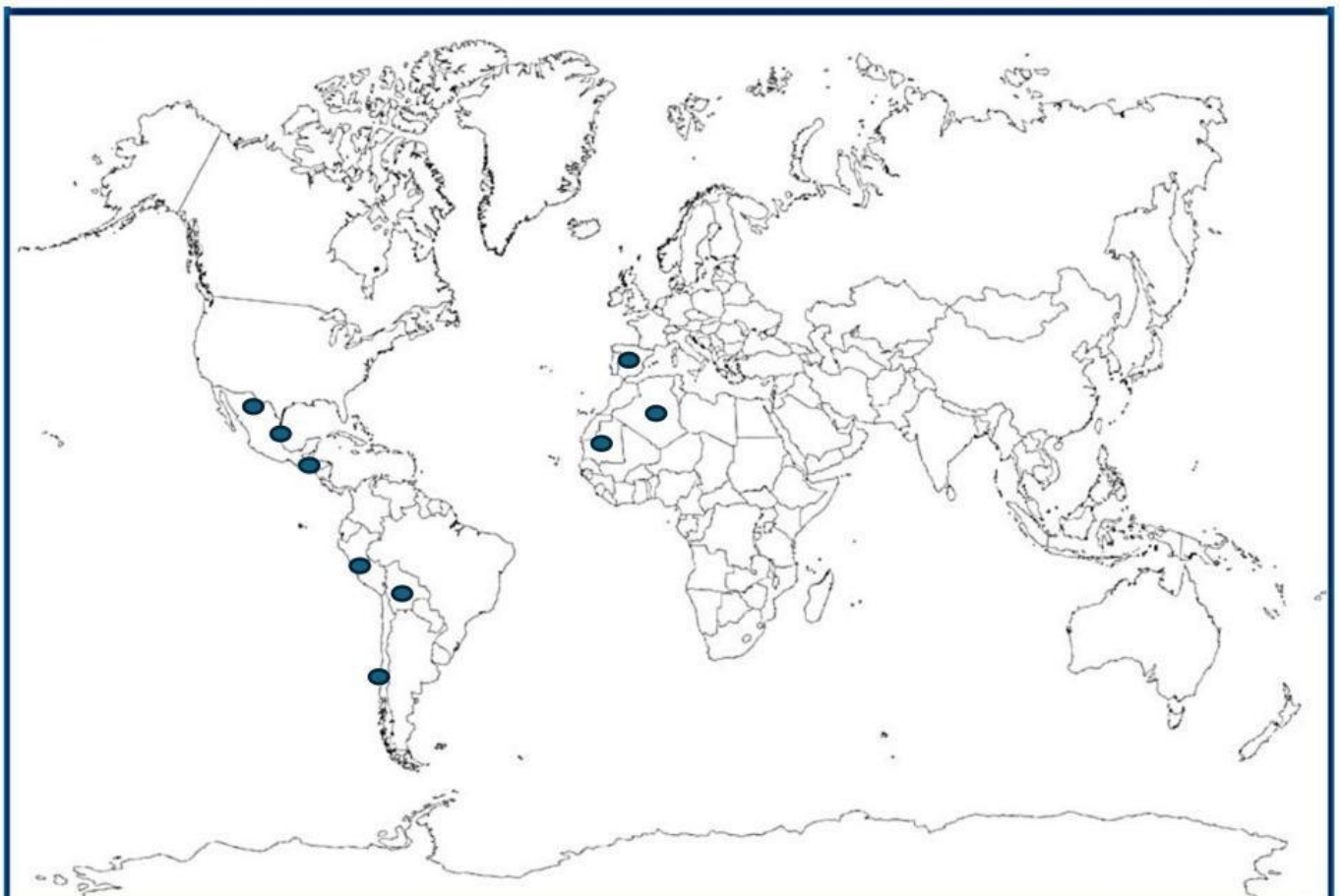
- Localiza a Chile
- Localiza a México
- Localiza a España
- Localiza a Perú (une cada punto con su nombre)

Chile

Perú


México

España





Considera diversos elementos de las civilizaciones maya, azteca e inca. Aquellos elementos propios de cada civilización escríbelos en los extremos de cada círculo, mientras que aquellos en común agrégalos en la intersección de los círculos que correspondan.



Terrazas  
de cultivo

Quipus

Mitas

Reciprocidad

Sociedad  
jerarquizada  
con un líder político  
a la cabeza

Agricultura  
por sistema de tala y roza

Ubicación en  
Mesoamérica

Desarrollo  
de calendarios

Chinampa

sacrificios

Religiones  
Politeístas

Construcciones  
monumentales

Guerras floridas

Ubicación en  
área andina

Camino del Inca