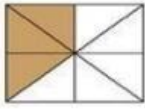


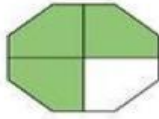
## Tema: Fracciones y operaciones con fracciones

Nombre: \_\_\_\_\_

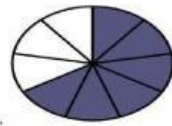
1. Arrastre la fracción indicada de cada figura.



a)  $\frac{6}{9} =$



b)  $\frac{3}{8} =$



c)  $\frac{3}{4} =$

2. Selecciona el resultado correcto para cada operación.

a)  $\frac{2}{5} + \frac{1}{5} =$

$\frac{38}{4}$

$\frac{3}{5}$

$\frac{23}{5}$

b)  $\frac{3}{4} - \frac{1}{8} =$

$\frac{5}{8}$

$\frac{2}{5}$

$\frac{31}{7}$

c)  $\frac{1}{3} + \frac{1}{6} =$

$\frac{9}{6}$

$\frac{7}{4}$

$\frac{1}{2}$

3. Une con líneas las operaciones con las respuestas correcta.

a)  $\frac{2}{3} \times \frac{4}{5} =$

$\frac{3}{16}$

b)  $\frac{3}{7} \div \frac{2}{7} =$

$\frac{8}{5}$

c)  $\frac{5}{8} \times \frac{3}{10} =$

$\frac{3}{2}$

5. Lee, piensa y Escribe la correcta.

1 En una jarra había  $\frac{3}{4}$  de litro de jugo. Si te tomas  $\frac{1}{2}$  ¿cuánto queda?

Respuesta: \_\_\_\_\_