

LEMBAR KERJA PESERTA DIDIK

NAMA :

KELAS :

NO ABSEN :

I. PILIHAN GANDA

1. Ibu Kota Jawa Tengah adalah

- ☐ A. Surabaya ☐ B. Jakarta ☐ C. Medan ☐ D. Semarang

II. PILIHAN GANDA KOMPLEKS

2. Pernyataan yang benar tentang bangun ruang Kubus

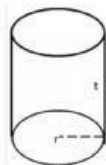
- A. ☐ Memiliki 12 rusuk
B. ☐ Volume = S^3
C. ☐ Luas permukaan = $5 \cdot S^2$
D. ☐ memiliki 4 diagonal ruang

III. ISIAN SINGKAT

3. Kapan diperingati hari Kartini ? (Sebutkan tanggal dan bulannya)

IV. MENJODOHKAN

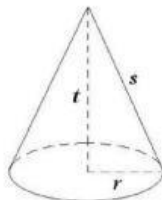
Bangun Ruang



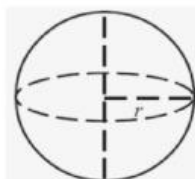
Rumus Volume



$$\frac{4}{3} \pi \cdot r^3$$



$$\pi \cdot r^2 \cdot t$$



$$\frac{1}{3} \pi \cdot r^2 \cdot t$$