



## Actividades de refuerzo

### Las características de las bacterias, los protistas y los hongos

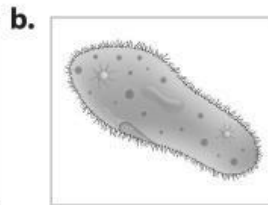
Nombre: \_\_\_\_\_

Curso: \_\_\_\_\_ Fecha: \_\_\_\_\_ Calificación: \_\_\_\_\_

1. Observa las imágenes de algunos representantes de protistas. Relaciona con una línea cada ser vivo con sus características.




Ameba



Paramecio



Euglena



Algas

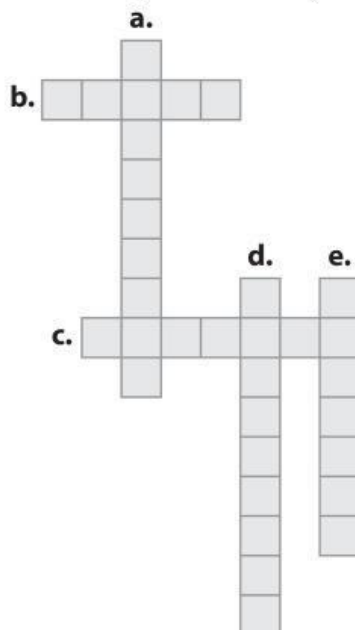
Es unicelular y su cuerpo está cubierto por cilios, con los que se mueve.

Es unicelular y se caracteriza por tener un flagelo que usa para desplazarse.

Se agrupan en colonias y poseen clorofila que les da el color verde.

Es unicelular y su cuerpo tiene forma irregular. Es parásito de algunos animales.

2. Resuelve el crucigrama con la ayuda de las pistas.



- a. Hongos que producen la fermentación, un proceso indispensable para la elaboración del pan.
- b. Posee estructuras llamadas pseudópodos que le ayudan a moverse.
- c. Enfermedad que transmite un mosquito y es causada por un paramecio, un protozoo que habita en su intestino.
- d. Se encuentran en el intestino de las vacas y les ayudan a digerir las plantas que consumen.
- e. Bacterias con forma alargada.

3. Escoge una palabra de los recuadros para completar las oraciones de manera adecuada.

descomponedores

piedra caliza

esporas

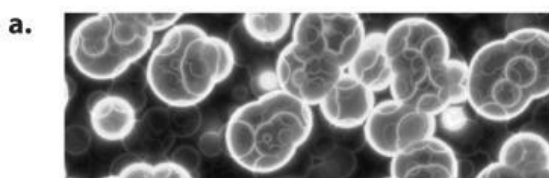
- a. Los hongos actúan con la materia orgánica como \_\_\_\_\_.
- b. Los hongos producen \_\_\_\_\_ que son células que se encargan de la reproducción asexual.
- c. Algunos protozoos forman depósitos de \_\_\_\_\_ en el mar.

4. Observa las fotografías y coloca un **✓** en aquellas que muestren un producto elaborado con la ayuda de algún tipo de hongo.



5. Descifra el nombre de los siguientes microorganismos con la ayuda de la clave.

Clave 1: a 2: b 3: c 4: e 5: g 6: i 7: l 8: m 9: o 10: p 11: r 12: t



1 7 5 1



10 1 11 1 8 4 3 6 9



1 8 4 2 1



2 1 3 12 4 11 6 1

6. Completa la siguiente tabla colocando una **X** donde corresponda. Luego, responde la pregunta.

Hongos	Beneficiosos	Perjudiciales	Hongos	Beneficiosos	Perjudiciales
Setas			Royas y tizones		
Levaduras			Mohos		

- ¿Cuáles hongos son benéficos para el hombre? ¿Por qué?

---



---



---