



Adivina, adivinanza... ¿Sabrías resolver estas tareas?




$\begin{array}{r} \square \\ - \square \\ \hline \square \end{array}$


Escribe el quinto número impar en el recuadro de arriba y el segundo número par en el de abajo. ¿Cuál es el resultado?



$\square - \square = \square$




Escribe el primer número de dos cifras en el recuadro de la izquierda y el primer número impar en el de la derecha. ¿Cuál es el resultado?




Escribe el doble de 4 en el recuadro de arriba y el doble de 2 en el de abajo. ¿Cuál es el resultado?

$\begin{array}{r} \square \\ - \square \\ \hline \square \end{array}$


Escribe el número correspondiente a una docena en el recuadro de arriba y el correspondiente a una decena en el de abajo. ¿Cuál es el resultado?



$\square - \square = \square$



Escribe la mitad de 50 en el recuadro de la izquierda y la mitad de 10 en el de la derecha. ¿Cuál es el resultado?



Escribe el doble de una docena en el recuadro de la izquierda y la mitad de 6 en el de la derecha. ¿Cuál es el resultado?

$\square - \square = \square$