

























Estudante: _____

Observe a tabela abaixo com os números até 100. Há alguns bichinhos ocupando o local de alguns números. Observe a imagem de cada bichinho e indique qual número ele ocupa na tabela.

1	2	3	4	5	6	7		9	10
11	12	13		15	16	17	18	19	20
21		23	24	25	26	27	28	29	30
31	32	33	34	35	36	37	38		40
41	42	43	44		46	47	48	49	50
	52	53	54	55	56		58	59	60
61	62	63	64		66	67	68	69	
71	72		74	75	76	77	78	79	80
81	82	83	84	85		87	88	89	90
91	92	93	94	95	96	97		99	100

--Nascrielike racice--

	<input type="text"/>		<input type="text"/>		<input type="text"/>
	<input type="text"/>		<input type="text"/>		<input type="text"/>
	<input type="text"/>		<input type="text"/>		<input type="text"/>
	<input type="text"/>		<input type="text"/>		<input type="text"/>