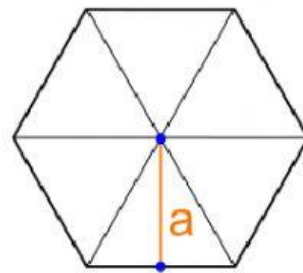
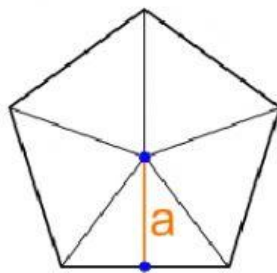
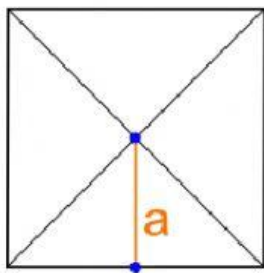


# L'APOTEMA



Inserisci le parole: CENTRO \_ALTEZZA \_ APOTEMA \_ TRIANGOLI ISOSCELI \_ LATO

L' \_\_\_\_\_ è il segmento che dal \_\_\_\_\_ del poligono cade perpendicolarmente su un \_\_\_\_\_.

I poligoni regolari si possono suddividere in \_\_\_\_\_.

L' \_\_\_\_\_ di questi triangoli corrisponde all'apotema

## CALCOLA L' APOTEMA.

Esegui i calcoli sul quaderno (... attenzione alla virgola!))

poligono	numero fisso	lato	apotema
triangolo	0,289	4cm	1,156cm
quadrato	0,5	18cm	cm
pentagono	0,688	9cm	cm
esagono	0,866	16cm	cm
ettagono	1,038	9cm	cm
ottagono	1,207	7cm	cm



