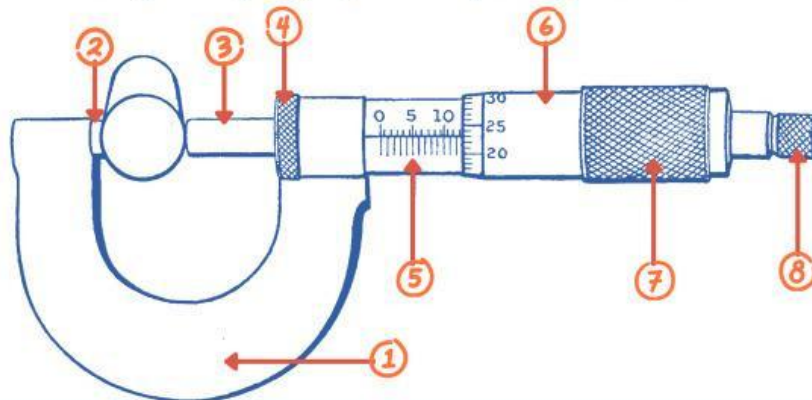


Kelas :  
Nama Kelompok:

# Lembar Kerja Murid

## Mikrometer Sekrup

Tuliskan nama bagian dan fungsi dari tiap-tiap bagian mikrometer sekrup sesuai dengan angka yang tertera pada gambar di bawah ini!



①

②

③

④

⑤

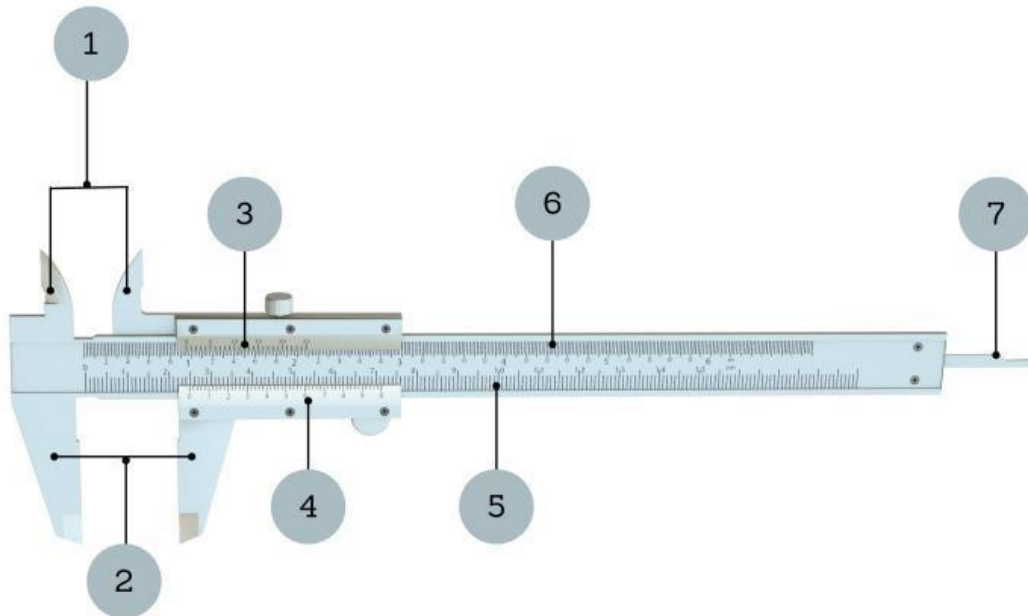
⑥

⑦

⑧

# Jangka Sorong

Tuliskan nama bagian dan fungsi dari tiap-tiap bagian jangka sorong sesuai dengan angka yang tertera pada gambar di bawah ini!



①

②

③

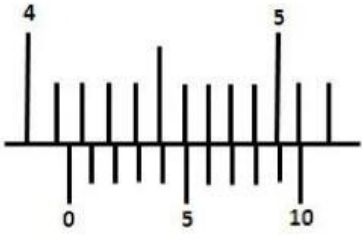
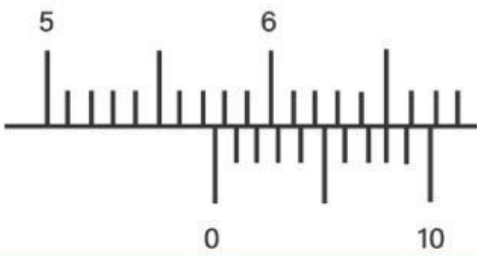
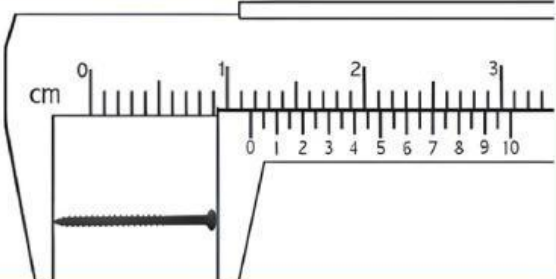
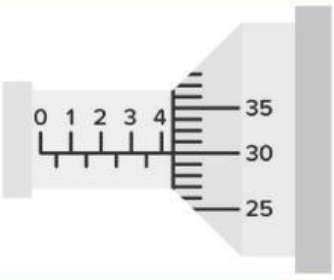
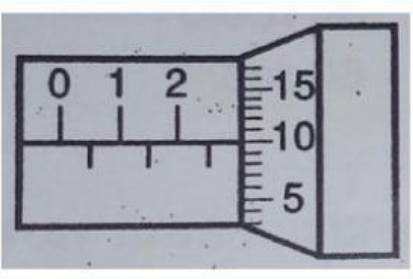
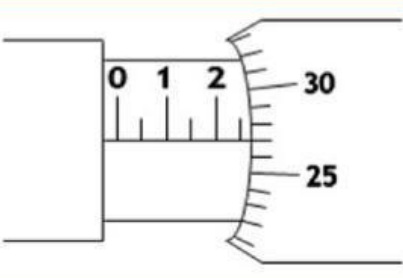
④

⑤

⑥

⑦

Berikut ini hasil pengukuran menggunakan jangka sorong dan mikrometer sekrup, tulislah hasil pengukuran masing - masing alat berikut!

	<p>SU= SN= Hasil=  Hasil Akhir=</p>
	<p>SU= SN= Hasil=  Hasil Akhir=</p>
	<p>SU= SN= Hasil=  Hasil Akhir=</p>
	<p>SU= SN= Hasil=  Hasil Akhir=</p>
	<p>SU= SN= Hasil=  Hasil Akhir=</p>
	<p>SU= SN= Hasil=  Hasil Akhir=</p>