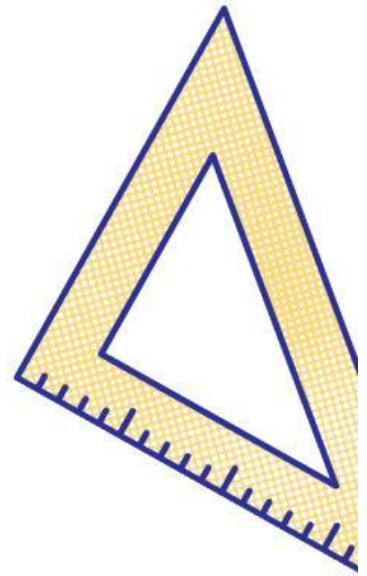




LKPD

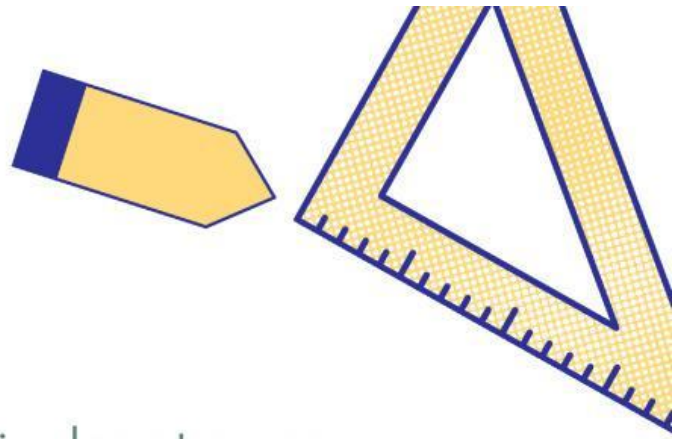
RASIO



Perhatikan vidio tersebut



LKPD RASIO



1. Di suatu pabrik roti, sebuah mesin dapat mengemas 100 pcs roti dalam waktu 5 menit.

**PERBANDINGAN
SENILAI**

**PERBANDINGAN
BERBALIK NILAI**

2. Kakek mempekerjakan 2 orang tukang untuk merenovasi rumah. Pekerjaan tersebut diperkirakan akan selesai dalam waktu 12 hari.

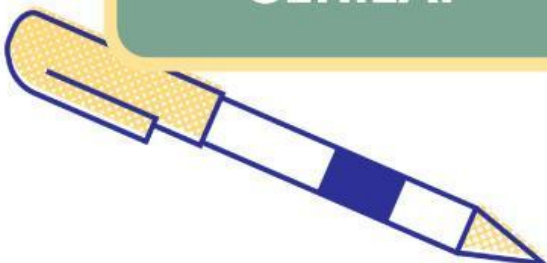
**PERBANDINGAN
SENILAI**

**PERBANDINGAN
BERBALIK NILAI**

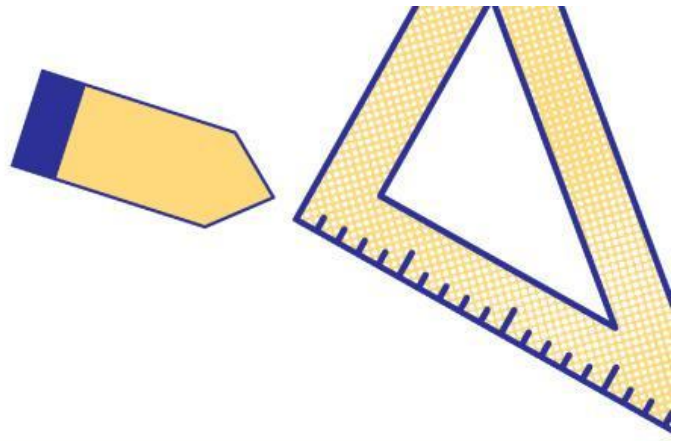
3. Di sebuah peternakan, 6 ekor kambing menghabiskan stok pakan dalam waktu 10 hari.

**PERBANDINGAN
SENILAI**

**PERBANDINGAN
BERBALIK NILAI**



LKPD RASIO



4.


Kakek mempekerjakan 2 orang tukang untuk merenovasi rumah. Pekerjaan tersebut diperkirakan akan selesai dalam waktu 12 hari.

Agar pekerjaan selesai dalam waktu 4 hari, berapa jumlah tukang yang harus dipekerjakan?

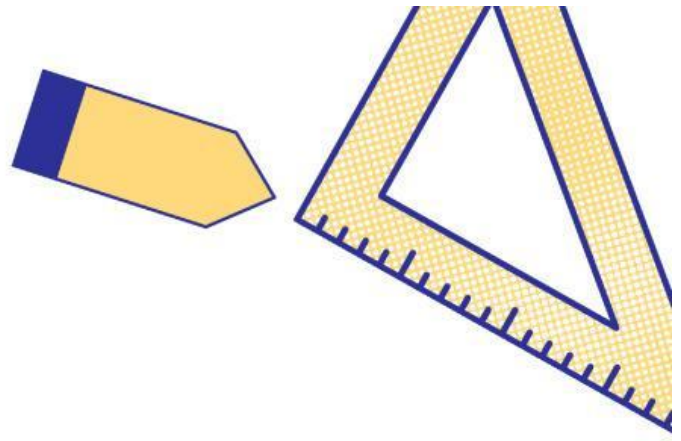
5.

Di suatu pabrik roti, sebuah mesin dapat mengemas 100 pcs roti dalam waktu 5 menit.

Berapa lama waktu yang diperlukan untuk mengemas 2500 pcs roti?



LKPD RASIO



6. Audrey memiliki pita sepanjang 1,5m dan Lucky memiliki pita 4500cm. Perbandingan panjang pita Audrey dan Lucky adalah....

- 1:45 1:30 1:2 1:3

7. Persediaan makanan untuk 15 ekor kambing habis setelah 24 hari. Jika 3 ekor kambing dijual, maka persediaan makanan tersebut akan habis setelah....

- 30 hari 40 hari 45 hari 54 hari

8. Tarik garis soal ke jawaban yang benar

155:325

650:700

225:300

3:4

31:65

13:14

