

Conocemos el sistema monetario del Perú

1. Lee el siguiente problema.

Zulema, observa que su mamá sacó de su monedero las siguientes monedas y billetes para pagar lo que cuesta el tacho de reciclaje.



Por ello se interesó en conocer las monedas actuales del Perú y saber **¿Cuánto le costó el tacho de reciclaje?**

2. Comprende el problema.

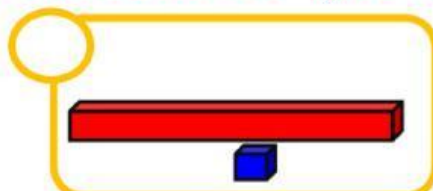
a) ¿De quiénes nos habla el problema?

b) ¿Qué compró su mamá?

c) ¿Qué sacó de su monedero?

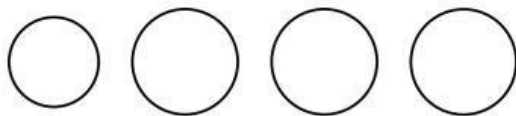
d) ¿Qué te pide averiguar el problema? Encierra tu respuesta.

e) ¿Qué materiales crees que te ayudarán a resolver el problema?



3. Aplica tu estrategia y resuelve la situación.

a) **REPRESENTA** con monedas y billetes la cantidad que saco la mamá de Zulema. Luego **JUNTA** para hallar el costo del tacho.



TOTAL



4. Damos respuesta al problema.

¿Cuánto le costó el tacho de reciclaje?

El tacho le costó

Sistema monetario del Perú



La moneda oficial del Perú es el nuevo sol.
Está formado por:

Monedas



1 nuevo sol



2 nuevos soles



5 nuevos soles

Billetes



s/. 200



s/. 100



s/. 50



s/. 20



s/. 10

Seguimos aprendiendo

1. Une cada grupo según el valor que le corresponde.



s/.31



s/.27



s/.28



s/.36







s/.39



s/.11

2. Observa los grupos monetarios y escribe cuánto dinero hay en cada uno.



3. Selecciona los billetes y las monedas que se necesitan para comprar cada juguete.



s/.25



s/.38



s/.17



s/.30

