



Ayo Berlatih!

Nama:

Kelas:

A. Perubahan Energi

Tentukan perubahan energi yang terjadi pada setiap gambar dibawah ini!

 →  →  →  →  → 






Ayo Berlatih!

B. Alur Perubahan Energi

Isilah dengan benda yang sesuai untuk melengkapi alur Perubahan energi nya. Seret (drag) dan letakkan (drop) gambar sesuai urutan alur Perubahan energi nya.



Dapatkah kalian menggunakan energi cahaya dari matahari untuk membuat musik?



Dapatkah kalian menggunakan air untuk menghasilkan cahaya?

