
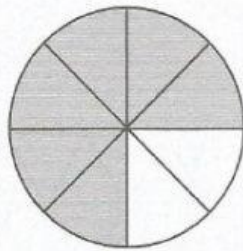


LE FRAZIONI

1 Osserva le figure e completa. Segui l'esempio.



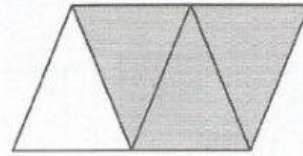
- L'intero è stato diviso in 6 parti uguali.
- Sono state colorate 5 parti su 6, cioè $\frac{5}{6} \rightarrow$ cinque sesti



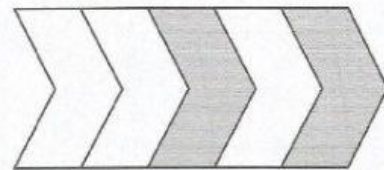
- L'intero è stato diviso in parti uguali.
- Sono state colorate parti su, cioè $\frac{\quad}{\quad} \rightarrow$



- L'intero è stato diviso in parti uguali.
- Sono state colorate parti su, cioè $\frac{\quad}{\quad} \rightarrow$



- L'intero è stato diviso in parti uguali.
- Sono state colorate parti su, cioè $\frac{\quad}{\quad} \rightarrow$



- L'intero è stato diviso in parti uguali.
- Sono state colorate parti su, cioè $\frac{\quad}{\quad} \rightarrow$



- L'intero è stato diviso in parti uguali.
- Sono state colorate parti su, cioè $\frac{\quad}{\quad} \rightarrow$