


Números del 1 al 10

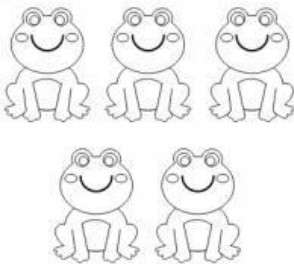
Instrucciones: Cuenta los objetos de cada conjunto y une con una línea el total con el número correspondiente



4




6




8

7



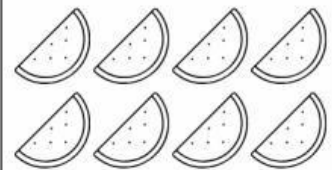
3

5



10

2



1

9

