

BÀI TẬP THAM KHẢO





Bài 1. Điền số thích hợp vào chỗ chấm:

- a) Có số lớn hơn 5 và bé hơn 9. Đó là các số:;;
- b) Số tiếp theo của dãy số 0; 1; 3; 6; ... là:

Bài 2. Viết số thích hợp vào chỗ chấm:

- a) - Số liền trước của 8 là
 - Số liền trước của 10 là
 - Số liền sau của 7 là
 - Số liền sau của 9 là
- b) - Số bé nhất lớn hơn 3 là số
 - Số bé nhất lớn hơn 7 là số
 - Số lớn nhất bé hơn 6 là số
 - Số lớn nhất bé hơn 9 là số

Bài 3. Chia 7 viên bi vào hai chiếc lọ bằng các cách khác nhau. Vẽ viên bi vào các hàng để thể hiện cách chia đó vào bảng sau (theo mẫu):

Bài 4. Điền số vào ô trống để hoàn thành bảng sau:

8					
5			3		
3				2	
1			1		

Bài 5. Quan sát quy luật của dãy số và điền số tiếp theo vào ô trống:

1	1	2	1	1	
---	---	---	---	---	--

TIẾT 1

Bài 1. Vẽ thêm hoặc gạch bớt để có số hình bằng nhau (theo mẫu):

$4 = 4$

$5 = 5$

$3 = 3$

$3 = 3$

$4 = 4$

$6 = 6$

Bài 2. Quan sát hình, điền số thích hợp vào chỗ chấm:

nặng bằng

Bài 3. Nối để các hình có số lượng bằng nhau (theo mẫu):

Bài 4. Điền số thích hợp vào ô trống:

Bài 5. Quan sát hình, điền số thích hợp vào chỗ chấm:

nặng bằng

