

المعرفة

١- ما قيمة الرقم ٦ المكانية في الأعداد التالية:

٩٨٦٣	٤٥٣٦	٧٦٨٤	٦٤١٠	العدد
				قيمة الرقم ٦

٢- ما العدد الذي يكون فيه قيمة الرقم ٧ المكانية تساوي ٧٠٠٠ :

أ- ٣٢١٧ ب- ٩٧٥٣ ج- ٧٥٤٣ د- ٦٨٧٢

٣- القيمة المكانية للرقم ٤ في العدد ٩٤٥٣ يساوي _____

٣- القيمة المكانية للرقم ٣ في العدد ٦٥٣٩ يساوي:

أ- ٣ ب- ٣٠ ج- ٣٠٠ د- ٣٠٠٠٠

التطبيق










٤- يعد جبل ايفرست اعلى جبل على وجه الأرض ، حيث يبلغ إرتفاعه ٨٧٤٩ مترا ، سجل القيمة المكانية لكل رقم في العدد حسب منزلته.

٤	٨	٩	٧	الرقم
				قيمة الرقم

سجل القيمة المكانية لكل رقم في العدد .

الإستدلال

٥ - استخدم محمد بعض الأشكال لعرض قيمة استهلاك الكهرباء لشهر سبتمبر . أكتشف قيمة الإستهلاك إذا علمت أنه مكون من ٤ منازل رقيمة .

٩	٨	٧	٦	٥	٤	٣	٢	١	آحاد
٩٠	٨٠	٧٠	٦٠	٥٠	٤٠	٣٠	٢٠	١٠	عشرات
٩٠٠	٨٠٠	٧٠٠	٦٠٠	٥٠٠	٤٠٠	٣٠٠	٢٠٠	١٠٠	مئات
٩٠٠٠	٨٠٠٠	٧٠٠٠	٦٠٠٠	٥٠٠٠	٤٠٠٠	٣٠٠٠	٢٠٠٠	١٠٠٠	الاف
									الرمز

فاتورة استهلاك الكهرباء



العدد: _____