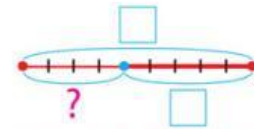
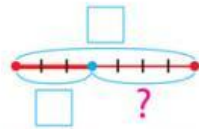
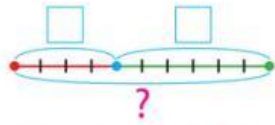




Математика самотійно



Доповни схеми. Запиши рівності за схемами.



Виконай додавання і віднімання із числом 0. У рівностях на додавання назви компоненти й результат арифметичної дії.

$7 - 0 = .$	$8 + 0 = .$	$9 - 0 = .$	$5 + 0 = .$
$6 + 1 = .$	$10 - 10 = .$	$3 + 0 = .$	$9 - 1 = .$
$8 - 8 = .$	$8 + 1 = .$	$6 - 1 = .$	$7 - 7 = .$