

Matemática

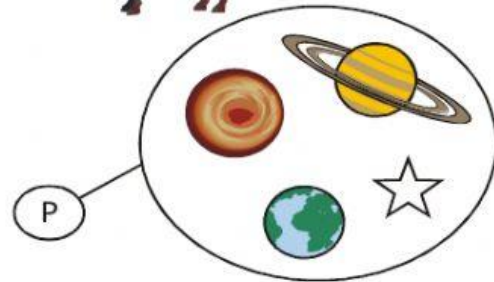
PERTENECE O NO PERTENECE



LEE ESTA INFORMACIÓN

1. Carlos representó los astros que investigará. Responde **SI** o **NO** entre los paréntesis.

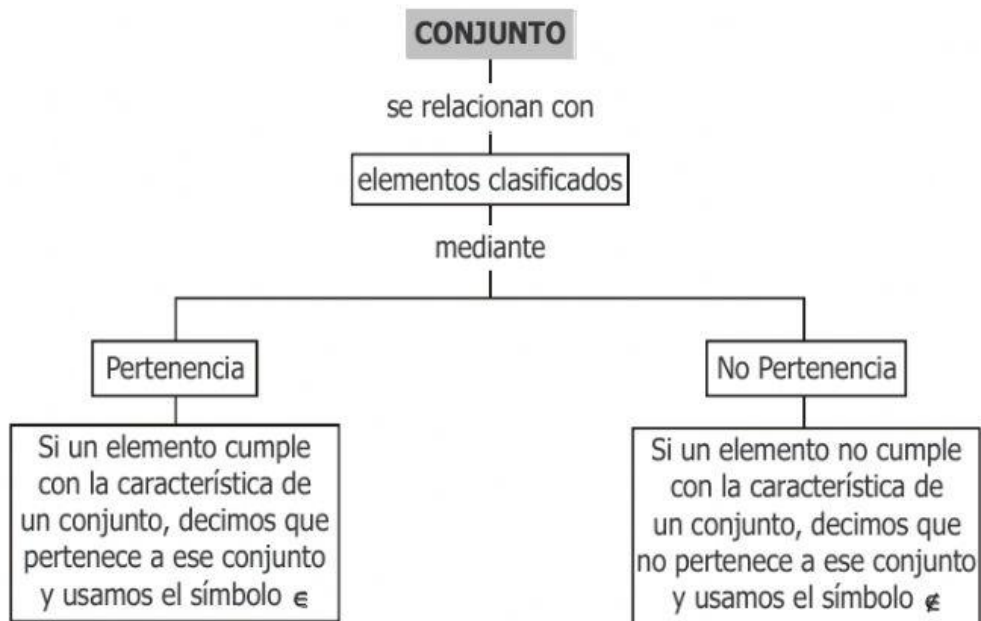


Éstos son los dibujos de los astros que investigaré



- a)  pertenece a la investigación de Carlos. ()
- b) Los animales pertenecen a la investigación de Carlos. ()
- c)  pertenece a la investigación de Carlos. ()
- d) Los extraterrestres pertenecen a la investigación de Carlos. ()

2. Observa y analiza el siguiente mapa:



AHORA TÚ:

1. Observa el conjunto del ejercicio N° 1 y completa con el símbolo \in o \notin .



2. Marca con una (x) el **elemento** que no guarda relación con los demás elementos de cada conjunto

B = {Arroz, caramelo, chocolate}

D = {Pollo, cebolla, lapicero}

E = {Loro, paloma, gato, gallina}

U = {Aguja, hilo, zapato, tijera}

3. Escribe tres elementos que pertenecen a los siguientes conjuntos.

H = {Prendas de vestir}

O = {Elementos de un botiquín escolar}

R = {Animales vertebrados}

Q = {Frutas cítricas}
