







	Parcial 1	GRADO: Área curricular: Tutor:	Primero Básico
	VALOR 10pts		Expresión Artística
			Diana Guerra
Nombre:			Fecha:

Instrucciones: unir con una línea el nombre de la figura geométrica

Rectángulo	
Círculo	
Trapecio	
Triángulo	
Cuadrado	
Romboide	
Rombo	

Serie II: Instrucciones: Contar cuantas figuras geométricas hay de cada una y colocar en la línea la cantidad de figuras.

	Círculo: _____
	Cuadrado: _____
	Triángulo: _____
	Rectángulo: _____

Serie III Instrucciones: Escribir el nombre de algún objeto o cosa que lleve la figura geométrica.

Círculo	Rectángulo
Cuadrado	Triángulo