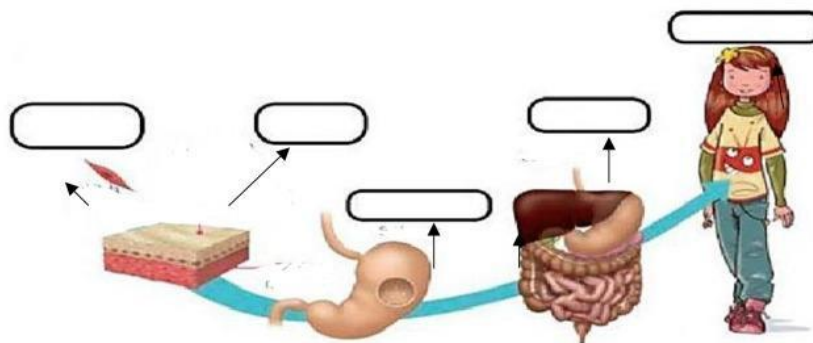


ACTIVIDAD FORMATIVA

Nombre del estudiante: _____

Parte I- Observa con atención las imágenes presentadas, cada una corresponde a un nivel de organización biológica; el el nivel correcto en cada imagen.

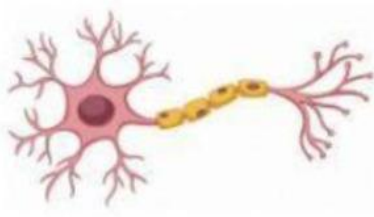


Parte II- Observa cuidadosamente las imágenes y analiza si corresponden a una célula, un tejido, un órgano o un sistema; luego completa el cuadro superior colocando en cada espacio la respuesta correcta según el nivel de organización que representa cada imagen.

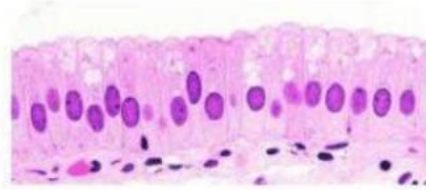
Célula	Tejido	Órgano	Sistema
			<i>Sistema muscular</i>
		<i>Cerebro</i>	
	<i>Tejido óseo</i>		

 Osteocitos	 Músculo agonista	 Neurona
 Tejido nervioso	 Húmero	 Tejido muscular esquelético
 Sistema esquelético	 Miocitos esqueléticos	 Sistema nervioso

Parte III- Selecciona el nivel correspondiente para cada imagen.



A.



B.



C.



D.



E.



F.



G.



H.