


## FICHA INTERACTIVA MATEMÁTICA– 1°

### NÚMEROS ORDINALES

1. Observa el número ordinales y selecciona el recuadro que contenga su nombre correcto.

<div>1°</div> <div> <div>TERCERO</div> <div>PRIMERO</div> </div>	<div>2°</div> <div> <div>DOS</div> <div>SEGUNDO</div> </div>
<div>3°</div> <div> <div>TERCERO</div> <div>OCTAVO</div> </div>	<div>4°</div> <div> <div>CUARTO</div> <div>SEXTO</div> </div>
<div>5°</div> <div> <div>CINCO</div> <div>QUINTO</div> </div>	<div>6°</div> <div> <div>NOVENO</div> <div>SEXTO</div> </div>
<div>7°</div> <div> <div>SÉPTIMO</div> <div>SEGUNDO</div> </div>	<div>8°</div> <div> <div>OCTAVO</div> <div>OCHO</div> </div>
<div>9°</div> <div> <div>NOVENO</div> <div>NUEVE</div> </div>	<div>10°</div> <div> <div>DIEZ</div> <div>DÉCIMO</div> </div>

2. Observa la posición que ocupa cada niño en la fila, luego arrastra el número ordinal según corresponda:



2°

1°


3°

4°

**3. Relaciona a cada niño con el lugar que le corresponde:**



























**4. Selecciona debajo de los elefantes el número ordinal correspondiente:**










## 5. Escribe el número ordinal según la fruta coloreada:

**6. Colorea el objeto que se encuentra en la posición que se indica:**


2°	
5°	
3°	
1°	
4°	

# Problemas


**1. Observa las tazas de menor a mayor capacidad. Luego escribe los números ordinales correspondientes.**



**2. Observa las camionetas del menor a mayor número de ocupantes. Luego escribe los números ordinales correspondientes.**



### 3. Observa y completa.



- a. El gato entrará  al veterinario.
- b. El loro entrará  al veterinario.
- c. El 1º en entrar fue el \_\_\_\_\_.
- d. La 3º en entrar será la \_\_\_\_\_.
- e. La 7º en entrar será la \_\_\_\_\_.
- f. El conejo entrará  al veterinario.
- g. La iguana entrará  al veterinario.
- h. El 8º en entrar será la \_\_\_\_\_.
- k. La 5º en entrar será el \_\_\_\_\_.



# Tablero posicional

**1. Lee los números y luego escríbelos en el tablero posicional.**

- \* doce →
- \* veintidós →
- \* nueve →
- \* treinta y tres →
- \* quince →
- \* veintinueve →
- \* cuarenta y nueve →
- \* veinte →
- \* diez →
- \* seis →
- \* cuarenta y tres →
- \* treinta y ocho →

D	U

