




	LICEO COOPERATIVO CAMPESTRE		
	<i>Luz, integridad y sabiduría</i>		
	Asignatura: ESTADISTICA	Grado: PRIMERO	Trimestre: I
	VALORACIÓN PARCIAL		
Estudiante:	Docente: YENNY CARVAJAL	Fecha: MARZO	NOTA

¿Cuántos animales hay?



Animal	Conteo	Total
		
		
		
		

1. ¿Cuál animal se repite más? _____
2. ¿Cuántas tortugas hay? _____
3. ¿Cuál animal se repite menos? _____
4. ¿Cuántos animales hay en total? _____
5. Hay más leones que perros? _____

Rocío preguntó a sus amigos el sabor de helado que prefieren. Cuenta la marcas según los datos.

Helado	Conteo	Total
