

LECCIÓN DEL II PARCIAL
I TRIMESTRE-ROBÓTICA

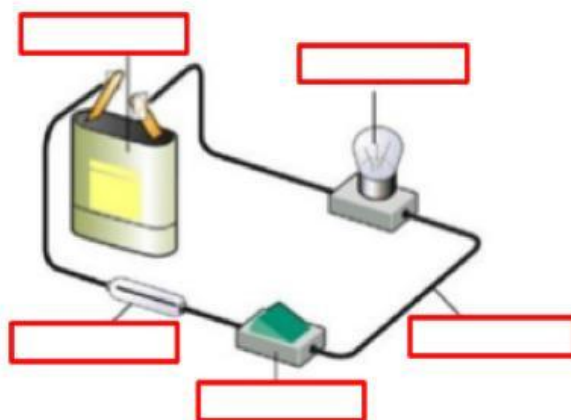
ESTUDIANTE: _____ 6TO. EGB: _____

DOCENTE: _____ FECHA: ____/____/____

Tema 1: Describa para que sirve los siguientes componentes (1 punto)



Tema 2: Escriba las partes de un circuito eléctrico (1 punto)



Tema 3: Escriba los tipos de circuitos eléctricos que existen. (1 punto)

1. _____ 2. _____ 3. _____

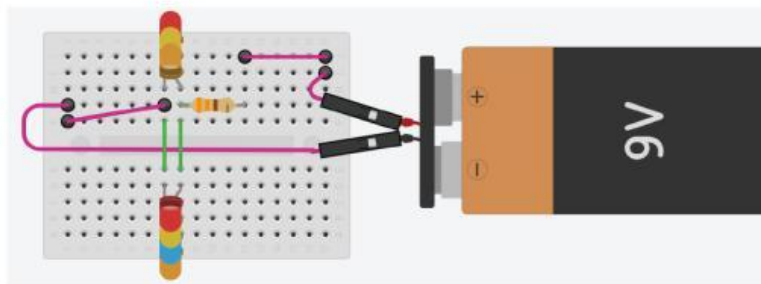
Tema 4: Para que me sirve un multímetro digital. (1 punto)

LECCIÓN DEL II PARCIAL I TRIMESTRE-ROBÓTICA

Tema 5: Escriba las partes básicas de un multímetro. (1 punto)

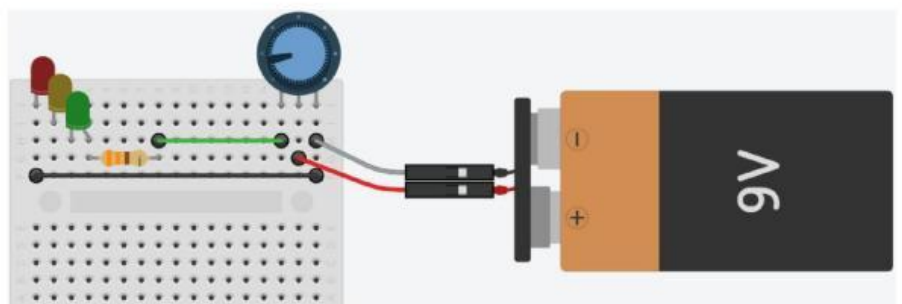


Tema 6: Realizar el siguiente circuito y escriba el tipo de circuito que representa. Utilice el kit de robótica. (2.5 puntos)



Tema 7: Realizar el siguiente circuito eléctrico y escriba los nombres de cada componente. Utilice el kit de robótica. (2.5 puntos)

- _____
- _____
- _____
- _____
- _____
- _____



Rúbrica de calificación

Teoría de lección	5 puntos
Circuito funcionando	5 puntos