

COSMOS HOME SCHOOL
EVALUACIÓN DIAGNÓSTICA

Nivel: Bachillerato General Unificado	Área: Historia	Fecha: 03/09/2025	Año Lectivo: 2025 - 2026
Estudiante:		Curso: Primero BGU	
Docente: Magister María Fernanda Ayala		Total aprendizajes: 10	

1. Indique verdadero o falso (1 aprendizaje / 1 punto)

La actividad de la alfarería se empezó a desarrollar desde el paleolítico.

Verdadero

Falso

2. Coloque la respuesta (1 aprendizaje / 1 punto).

La teoría que explica los procesos de cambio de las criaturas se conoce como:

Respuesta: _____

3. Responda correctamente (1 aprendizaje / 1 punto). A partir del proceso de hominización ¿Cuál es la única especie que habita hoy en el planeta?

Respuesta: _____

4. Responda. ¿Qué momento histórico se describe en el texto? (1 aprendizaje / 1 punto)

Durante esos años, la vida del hombre cambió radicalmente respecto a sus medios de subsistencia y su relación con la naturaleza: pasó de ser un cazador – recolector de vida nómada a un productor agrícola – ganadero sedentario. Así, al domesticar animales y plantas tuvo cierto control desde su propio abastecimiento de alimentos. Esto le permitió cubrir sus necesidades básicas y almacenar excedentes, que empezó a intercambiar por otros productos. De esta forma nació el comercio.





- a) Antes del Paleolítico
- b) El Paleolítico
- c) El Mesolítico
- d) El Neolítico

5. Escriba dos inventos que las sociedades fluviales de Oriente lograron y que fueron claves para nuestra sociedad actual (2 aprendizajes / 2 puntos)

6. Seleccione la opción correcta. ¿En qué edad surgieron las primeras sociedades fluviales? (1 aprendizaje / 1 punto)

- a) Edad Media
- b) Edad Paleolítica
- c) Edad de Bronce
- d) Edad de Hierro

7. Relacione las siguientes columnas de acuerdo a la civilización y su imagen correspondiente. Escoja la opción correcta (1 aprendizaje /1 punto).

Civilizaciones	Imágenes
1. Mesopotamia	e) 
2. China	f) 
3. Egipto	g) 
4. India	h) 

- a) 1h, 2f, 3g, 4e b) 1g, 2e, 3h, 4f c) 1h, 2e, 3f, 4g d) 1f, 2g, 3e, 4h

8. Escoja la opción correcta. ¿En cuál de las siguientes civilizaciones apareció la imprenta? (1 aprendizaje / 1 punto)

- a) Inca
- b) Mesopotamia
- c) China
- d) Egipcia

9. Explique por qué las primeras civilizaciones se acentuaron en la orilla de los ríos (1 aprendizaje / 1 punto).

10. Indique verdadero o falso (1 aprendizaje / 1 punto)

En las construcciones megalíticas se realizaban sacrificios para los dioses en qué creían los pobladores.

Verdadero

Falso