

MEDIDAS DE CAPACIDAD

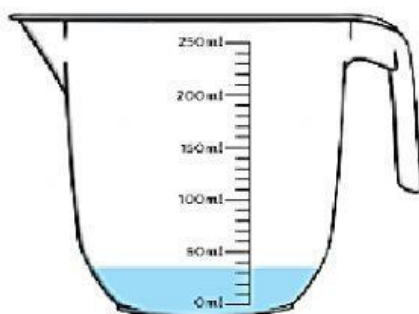
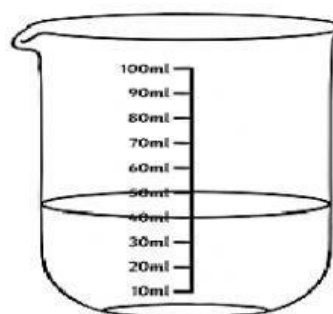
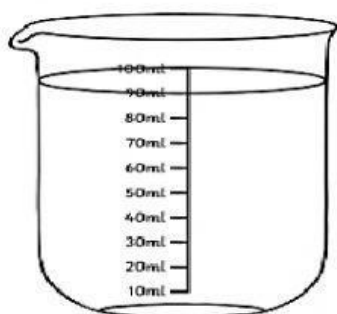
SUBMÚLTIPLOS DEL LITRO



1. Escribe debajo de cada vaso la abreviación del submúltiplo al que pertenece.



2. Escribe debajo de cada recipiente la cantidad de líquido que tiene.



3. Une la imagen con el submúltiplo que corresponde.




Decilitro

Centilitro

mililitro

4. Observa la imagen y responde las preguntas



- ¿Cuántos decilitros (dl) hay en la jarra de litro?
- ¿Cuántos decilitros (dl) de líquido tiene la jarra?
- ¿Cuántos decilitros (dl) deposita la taza en el tubo?
- ¿Cuántos centilitros (cl) hay en 1 dl?
- ¿Cuántos centilitros (cl) habría en 2 dl?