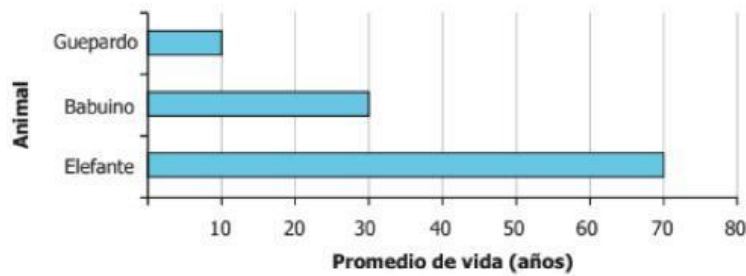


# RESOLUCIÓN DE PROBLEMAS

RESUELVA Y SELECCIONE LA RESPUESTA CORRECTA

La gráfica muestra el promedio de vida, en años, de algunos animales salvajes en una región de un país.




¿Cuántas veces el promedio de vida de los guepardos es igual al promedio de vida de los elefantes?


- A. 8
- B. 7
- C. 6
- D. 3

Al marciano Numsti le gusta comer números, pero siempre elije los mayores porque los menores le dejan con hambre. Si Numsti comió cuatro números de los que tiene enfrente y se quedó satisfecho, ¿qué número no comió?

**1345 1305 1354 1304 1340**



En un depósito hay 800 L de agua. Por la parte superior se vierten, a través de un tubo, 25 L de agua por minuto, y por la parte inferior se extraen 30 L de agua por minuto mediante otro tubo. ¿Cuántos litros de agua habrá en el depósito después de 15 min de funcionamiento?

¿Cuántas piezas como ésta  se necesitan para armar el tablero de ajedrez que se muestra en la figura?

