


LKPD

Ilmu Pengetahuan Alam & Sosial

Tema:

Pancaindra Manusia



Nama:

Kelas:

KENALI PANCAINDRA

Nama:

Kelas:



Instruksi:

Tarik garis dengan gambar yang sesuai antara gambar indra dan fungsinya:

Merasakan
sentuhan dan suhu



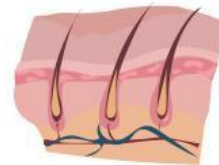
Melihat benda di
sekitar



Mencium berbagai
bau



Merasakan
berbagai rasa
makanan



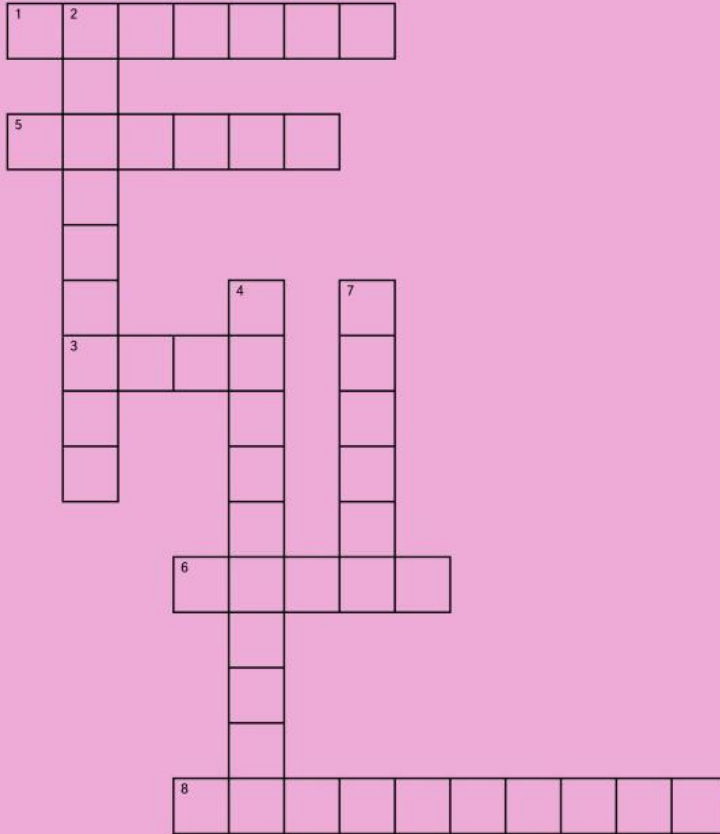
Mendengar suara
musik



TEKA-TEKI SILANG (TTS)



Bagian-bagian Pancaindra dan fungsinya



Nama:

Kelas:

Gunakan petunjuk di bawah ini untuk memecahkan teka-teki silang!

Mendatar:

1. Pancaindra yang berfungsi mendengar suara di sekitar dan menjaga keseimbangan tubuh adalah...
3. Pancaindra yang berfungsi untuk melihat kondisi sekitar dalam visualisasi gambar adalah
5. Pancaindra yang berfungsi menghirup udara yang masuk ke dalam tubuh adalah...
6. Pancaindra yang berfungsi membantu merasakan rasa makanan
8. Bagian hidung yang berfungsi mengatur tekanan udara dan melindungi hidung

Menurun:

2. Lapisan kulit dapat dilihat dan disentuh adalah...
4. Mata, lidah, kulit, hidung, dan telinga disebut juga...
7. Bagian telinga yang menyerupai rumah siput adalah...