

Nama : _____

Kelas : _____

Penulisan Angka Dan Nilai Uang

Lengkapilah tabel di bawah ini dengan tepat dalam penulisan angka dan nilai uang.







Angka (Penulisan Rupiah)	Nilai Uang (Nama bilanganya)
Rp79.500,00	
Rp132.000,00	
	Tujuh puluh lima ribu lima ratus rupiah.
	Seratus sembilan puluh dua ribu rupiah.
Rp396.700,00	
Rp721.000,00	
	Delapan ratus tiga puluh dua ribu rupiah.
Rp318.500,00	
Rp645.700,00	
	Sembilan ratus dua puluh lima ribu rupiah.





Berapa Jumlah Uangku?





Hitunglah jumlah uang di bawah ini dan tuliskan hasilnya sesuai nilai mata uang rupiah!





Contoh:





   =

 
  =

 
  =

 
  =

 
  =

 
  =



MENGHITUNG UANG

Petunjuk: Jumlahkan seluruh nilai uang sesuai pecahan yang disebutkan untuk menemukan totalnya.

Contoh: Ibu Vani memiliki 2 lembar uang lima ribuan dan 7 lembar sepuluh ribuan. Berapakah jumlah uang Ibu Vani?

Rp80.000,00

1

Aku mempunyai uang lima ratusan 3 koin dan seribuan 2 lembar. Berapa jumlah uangku?

2

Putri mendapat uang jajan dari ayah berupa dua ribuan 5 lembar, sepuluh ribuan 1 lembar, dan lima ratusan 2 koin . Berapa total uang jajan Putri?

3

Ibu memberikan uang dua ribuan 5 lembar dan lima ribuan 3 lembar. Berapa total uang yang diberikan Ibu?

4

Aku punya uang sepuluh ribuan 2 lembar, dua puluh ribuan 1 lembar, dan dua ribuan 2 lembar. Berapa uangku?

5

Kotak celenganku ada lima ratusan 6 koin, dua ribuan 5 lembar, dan lima ribuan 3 lembar. Berapa uang di celenganku?

6

Andi memiliki uang dua ribuan 10 lembar, lima ribuan 5 lembar, dan lima puluh ribuan 2 lembar. Berapa jumlah uang Andi?
